





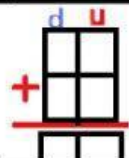
UNIDAD EDUCATIVA
"LOUIS V. DE BROGLIE"

Coop. Pueblo Unido Av. Simón Bolívar E6-04
Teléfono: 3073-626 / 2682-282



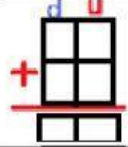
MATERIA: Matemática

CURSO: Segundo de Básica A, B, C

1. Resolver los siguientes problemas con sumas de dos cifras



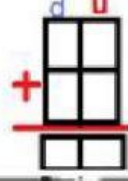
Pablo tiene 26 carros de juguetes y su hermano le presta 12 carros. ¿Cuántos carros tiene en total Pablo?	
	
	R= Pablo tiene _____ carros en total.

2. Completar los datos en el recuadro y resolver el problema


Carmen tiene 25 manzanas y compra en el supermercado 12 peras. ¿Cuántas frutas tiene Carmen en total?	
	
	R= Carmen tiene _____ futas en total.

3. Seleccionar los datos correspondientes para resolver el problema planteado.

María compró el Lunes 15 pasteles y el Martes compró 12 pasteles más. ¿Cuántos pasteles compró María en total?

 <table border="1" data-bbox="526 548 646 705"> <tr><td></td><td></td></tr> <tr><td></td><td></td></tr> </table>					 _____
	R= María compró _____ en total.				

Carlos tiene 35 canicas y su papá le compro 12 canicas más. ¿Cuántas canicas tiene en total?

 <table border="1" data-bbox="502 1232 614 1388"> <tr><td></td><td></td></tr> <tr><td></td><td></td></tr> </table>					 _____
	R= María compró _____ en total.				