

UNIDAD EDUCATIVA “SAN BARTOLOMÉ”

DATOS INFORMATIVOS:

ACTIVIDAD DE: FÍSICA


CURSO: PRIMERO TEC


TEMA: FUERZA ELÉCTRICA: LEY DE COULOMB

AÑO LECTIVO: 2020-2021

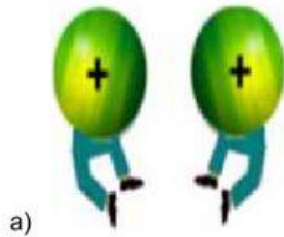
1) Seleccione una V, si la expresión es verdadera y una F si es falsa:

a) Los cuerpos cargados eléctricamente interactúan mediante la fuerza eléctrica.....()

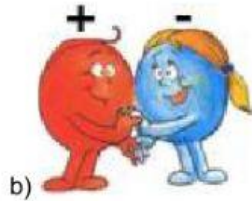
b) Lo de  indica cargas de signo contrario se repelen.....()

c) Lo de  indica que cargas de signo contrario se atraen.....()

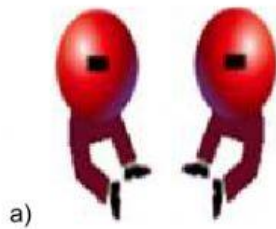
3) Unir con líneas según corresponda:



cargas negativas se repelen

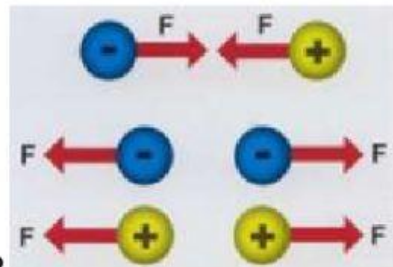


cargas positivas se repelen



cargas de signo contrario se atraen

4) **Pregunta de selección múltiple.** Aclaración: Seleccione la respuesta que usted considere la correcta.



En lo de la foto

se ilustra la ley de:

- Képler
- Hooke
- Newton
- Coulomb
- Ninguna de las anteriores.

