

Nome

Data

Matemática

Multiplicação – Adição de parcelas iguais



Nasceram 4 flores em cada vaso.

Quantas flores há nos 3 vasos?



Adição

$$4 + 4 + 4 = 12$$


Multiplicação

$$3 \times 4 = 12$$


Lê-se

3 vezes 4 é igual a 12

No total há 12 flores.



Completa



$$1 + \square + \square + \square = \square$$

4 vezes _____ é igual a _____


$$\square \times \square = \square$$



$$\square + \square + \square = \square$$

_____ vezes _____ é igual a _____

$$\square \times \square = \square$$



$$4 + \square + \square + \square = \square$$

4 vezes _____ é igual a _____

$$4 \times 4 = \square$$



$$\square + \square + \square = \square$$

_____ vezes _____ é igual a _____