

NÚMEROS DECIMALES

1. Compara estos números decimales y coloca el signo correspondiente (<, >, o =)

3,5 3,05

4,5 4,05




0,037 0,0370

0,9 0,90

1,7 1,31

2,1 2,1

2. Escribe la parte coloreada en forma decimal.



3. Sitúa los números en la recta numérica.

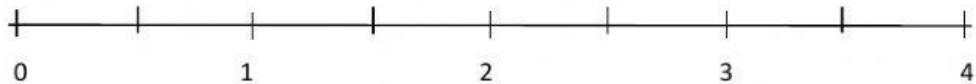
A – 2,20

B – 1,1

C – 3,1

D – 2,9

E – 0,5



4. Escribe con cifras.

Cuarenta y dos coma uno –

Cuatro unidades y ocho décimas –

Diez coma cero uno –

Veinte coma nueve –

Una unidad y dos décimas –

Dieciocho coma diez –