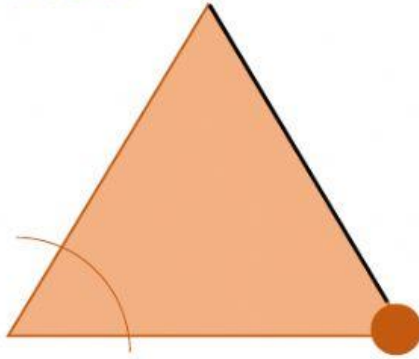


FORMAS POLIGONALES



Completa las partes de este polígono. Arrastra los nombres hasta su posición correcta.



Lado

Ángulo

Vértice







Selecciona las figuras que sean polígonos.

<input type="checkbox"/>	<input type="checkbox"/>	<input type="checkbox"/>
<input type="checkbox"/>	<input type="checkbox"/>	<input type="checkbox"/>
<input type="checkbox"/>	<input type="checkbox"/>	<input type="checkbox"/>



Completa el siguiente cuadro, toma en cuenta el ejemplo.

				
Número de ángulos	3			
Número de vértices	3			
Número de lados	3			

Recuerda que los polígonos están formados por líneas rectas y cerradas.