




# Ciencias

# Naturales 5 to Grado



Área curricular: Ciencias Naturales

Bloque: La Tierra y El Universo

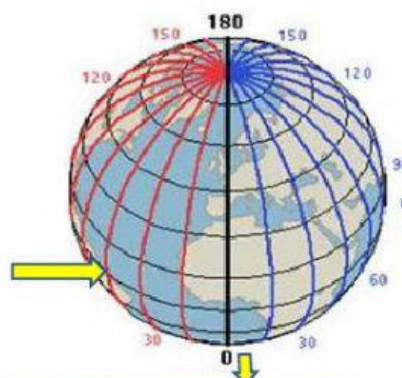
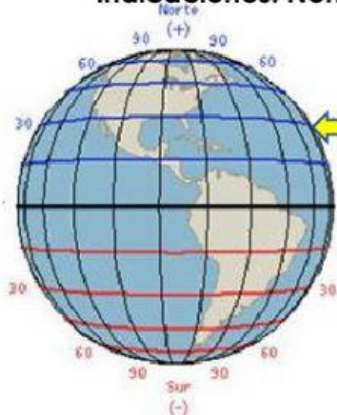
Tema: La composición de la atmósfera

Nombre del estudiante: \_\_\_\_\_

Nombre del docente: \_\_\_\_\_

Centro Educativo: \_\_\_\_\_

Indicaciones: Nombre cada una de las líneas imaginarias del globo terráqueo.



Indicaciones: Seleccione la respuesta correcta.

1. La  es la distancia angular de  $0^\circ$  a  $90^\circ$  que hay desde un punto de la superficie terrestre al ecuador.

2. La  es la distancia angular de  $0^\circ$  y  $180^\circ$  que existe desde un punto de la superficie terrestre hasta el meridiano de Greenwich.

3. La  es la distancia que existe desde un punto cualquiera de la tierra hasta el nivel del mar.

4. Las  sirven de referencia para determinar la ubicación, horario y cambios de temperatura en los países del planeta Tierra.

