



 Selecciona el número que representa el gráfico.



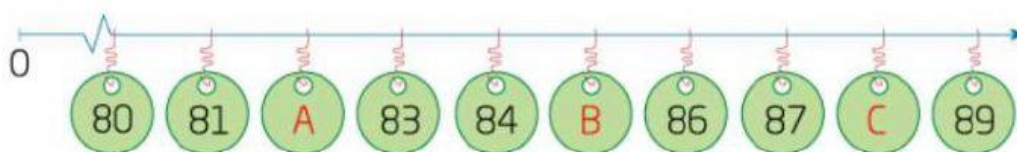
- ☐ 73 ☐ 63 ☐ 78 ☐ 37

 Selecciona la lectura del número que representa el gráfico.



- ☐ setenta y seis
☐ sesenta y siete
☐ cincuenta y cinco

 Escribe el número que corresponde a cada letra en la semirrecta numérica.



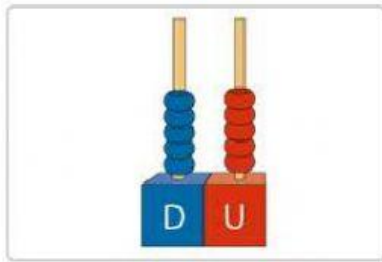
A	<input type="text"/>
---	----------------------

B	<input type="text"/>
---	----------------------

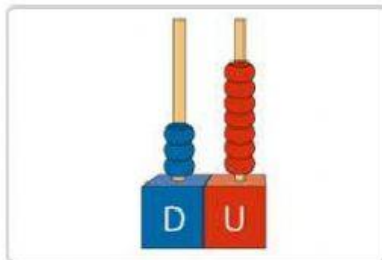
C	<input type="text"/>
---	----------------------



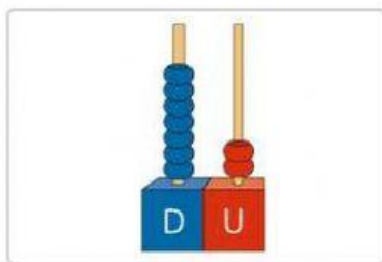
Relaciona la representación con el número.



37



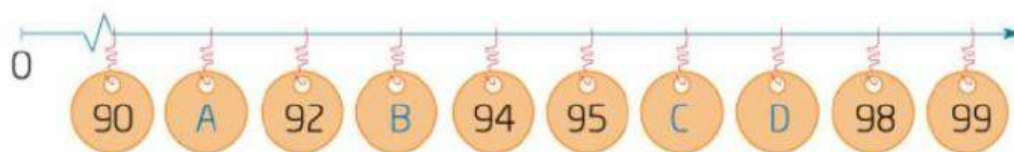
72



55



Escribe los números que faltan en la semirrecta numérica.



A

B

C

D

 Observa la semirrecta numérica. Luego, relaciona cada animal con la lectura del número en el que está ubicado.



sesenta y cuatro



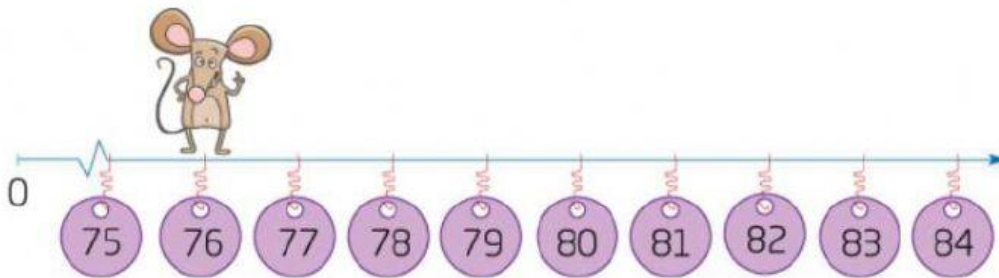
sesenta y siete



sesenta y uno



Observa la semirrecta numérica y responde V (verdadero) o F (falso) para cada afirmación.



El grillo está en el número 76 y tiene que dar 4 saltos para llegar al número 80.

☐ V ☐ F

Cuando el grillo llegue al número 80, dará dos saltos más y para llegar al número 83.

☐ V ☐ F

Para llegar al número 84 desde 76, el grillo tendrá que dar 8 saltos.

☐ V ☐ F