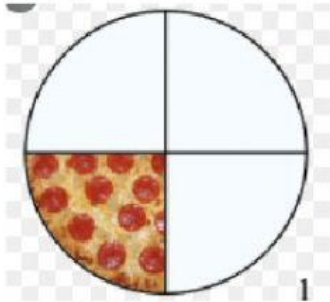



**Guía de razones y porcentajes**

1. Las siguientes imágenes son pizzas , tomando en cuenta que ya se han comido algunos trozos calcula el porcentaje de ellas que aún queda y unelos según corresponda.



50%



100%

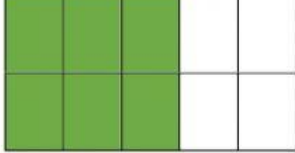







75%



25%

2. Observa los dibujos y escribe la razón que representan y el porcentaje de esta.

DIBUJO	RAZÓN	PORCENTAJE
	<p>_____</p>	
	<p>_____</p>	
	<p>_____</p>	
	<p>_____</p>	
	<p>_____</p>	
	<p>_____</p>	

