

GIOCHIAMO CON LE ADDIZIONI:

1) L'ADDIZIONE è VERA O FALSA?
CLICCA SULLA RISPOSTA GIUSTA:

$2 + 7 = 9 \quad \text{V} \quad \text{F}$

$6 + 4 = 10 \quad \text{V} \quad \text{F}$

$0 + 10 = 9 \quad \text{V} \quad \text{F}$

$5 + 3 = 8 \quad \text{V} \quad \text{F}$

$3 + 3 = 6 \quad \text{V} \quad \text{F}$

2) CONTA CON LE DITA E SCRIVI IL RISULTATO:

$4 + 6 = \square$

$2 + 8 = \square$

















$4 + 2 = \square$


$2 + 5 = \square$









$5 + 5 = \square$

$2 + 7 = \square$

3) TRASCINA I NUMERI AL POSTO GIUSTO:

 <input type="text"/>		 	<input type="text"/>
 	<input type="text"/>	 	<input type="text"/>
<input type="text"/>	 		<input type="text"/> 
 <input type="text"/>		 	<input type="text"/>



By Lucrezia Pagani 2019