



FICHA PEDAGÓGICA

Tema: Perímetro de paralelogramos

1.- Une con líneas al nombre de cada paralelogramo.



Romboide

Rombo

Rectángulo

Cuadrado

2.- ¿Señale cuáles son las figuras que tienen sus lados iguales?

Cuadrado

Rectángulo

Romboide

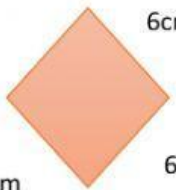
Rombo

3.- ¿Cuáles son las figuras que tienen sus lados opuestos, paralelos de dos en dos?



4.- Calcular el perímetro de cada paralelogramo.

6cm



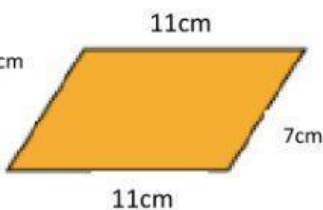
6cm

P=

P=

P=

7cm



11cm

P=

P=

P=