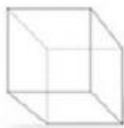

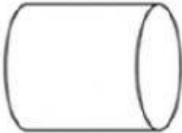




Име и презиме:

ГЕОМЕТРИСКИ ЗД ФОРМИ 2

Број на темиња и рабови	Форма	Име на Зд формата
_____ темиња _____ рабови		
_____ темиња _____ рабови		
_____ темиња _____ рабови		
_____ темиња _____ рабови		
_____ темиња _____ рабови		

ГЕОМЕТРИСКИ 3Д ФОРМИ - 3

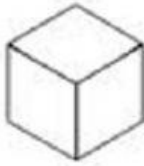
1. Поврзи ја формата со нејзиното име и бројот на страните рабовите и темињата!

ТРИАГОЛНА
ПРИЗМА




6 темиња
9 раба
5 ѕида

СФЕРА -
ТОПКА



4 темиња
6 раба
4 ѕида

КОЦКА



0 темиња
0 раба
0 ѕида

ТРИАГОЛНА
ПИРАМИДА



8 темиња
12 раба
6 ѕида