



Evaluación Mensual

Grado: 4°	Curso:: Geometría	Profesor: Jaime A. Cedamano T.
-----------	-------------------	--------------------------------

Apellidos y nombre: _____

1.- Relaciona cada elemento con su respectivo nombre. (1 Punto cada uno)

Segmento



Plano



Punto



Recta



Rayo



2.- Menciona que elemento geométrico pertenece la siguiente notación (1 Punto cada uno)

\overline{PQ}

$\cdot A$

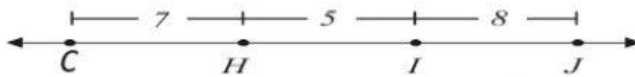
$\longleftrightarrow AB$

\overrightarrow{OB}

$\square P$

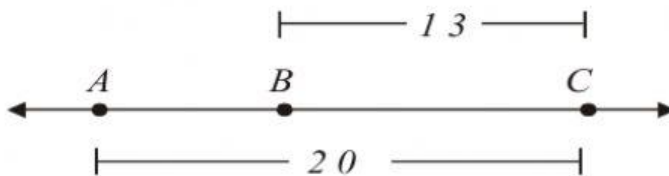
3.- Calcula lo que se pide en cada ejercicio y coloca su resultado en su respectivo cuadro de la derecha(2 Puntos cada uno)

a. Calcular CJ



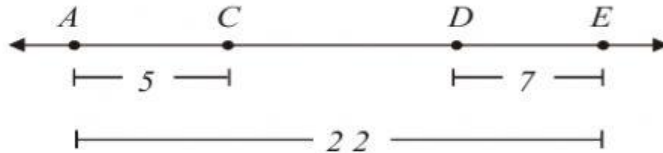
Respuesta:

b. Calcular AB



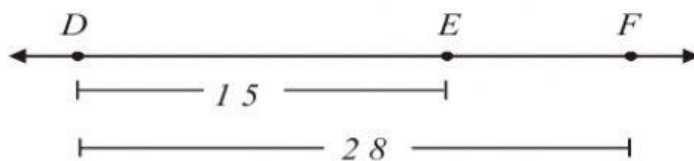
Respuesta:

c. Calcular CD



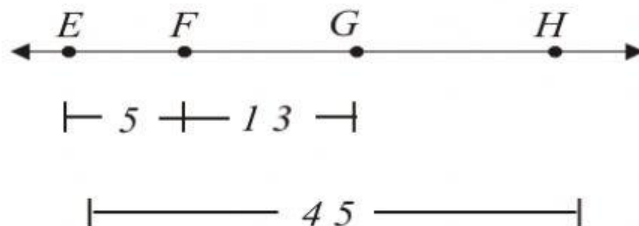
Respuesta:

d. Calcular EF



Respuesta:

e. Calcular GH



Respuesta: