


REFUERZO DE CIENCIAS NATURALES TERCER PARCIAL

NOMBRE:

1.- UNA CON UNA LÍNEA CADA MÁQUINA SIMPLE CON SU NOMBRE.



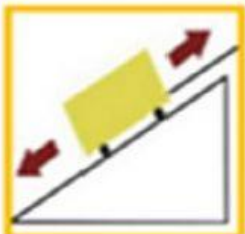
1. RUEDA



2. PALANCA



3. CATAPULTA



4. POLEA



5. PLANO
INCLINADO

2.- ESCRIBA SI ES ENERGÍA RENOVABLE O NO RENOVABLE.

- a) El sol _____
- b) El petróleo _____
- c) El gas natural _____
- d) El aire _____

3.- MARQUE LA RESPUESTA CORRECTA DE LA INFLUENCIA DEL SOL EN LOS SERES:

* Bióticos:

- a) Las plantas y algas aprovechan la luz del sol para crecer y elaborar su propio alimento mediante el proceso de la fotosíntesis.
- b) La energía que se recibe del sol es la causa de cambios de la naturaleza como el ciclo del agua.


* Abióticos:

- b) Influye la formación del viento ya que el sol calienta de forma desigual el planeta.
- c) Los seres vivos necesitan calor para vivir, el sol calienta el cuerpo de animales.

4.- MARQUE LAS RESPUESTAS SOLO LAS RESPUESTAS CORRECTAS:

- a) Todo no está relacionado con los seres vivos..... ()
- b) El agua es una sustancia que necesitan todos los seres vivos..... ()
- c) El agua que está en el aire cae a toda la tierra en forma de nieve una parte llega a los ríos, lagos y océanos..... ()
- d) El suelo está compuesto de partículas de roca y ayuda al crecimiento de las plantas.....()

5.- UNA LAS CAPAS DE LA TIERRA CON SU NOMBRE



CAPA INFERIOR

CAPA SUPERIOR

CAPA INTERMEDIA

6.- UNA CON EL DIBUJO EL CONCEPTO QUE CORRESPONDA.



es una mezcla de gases que rodea toda la tierra, sirve para respirar.



Es la capa más superficial de la tierra, donde el ser humano realiza sus actividades cotidianas.





Es un líquido inodoro (sin olor), insípido (sin sabor) e incoloro (sin color).

7.- MARQUE (x) LA RESPUESTA CORRECTA.

- a) Los incas se dedicaron a observar el recorrido del sol.....()
- b) El año inca tenía 14 meses un total de 327 días.....()
- c) Los incas dividían el año en tres calendarios.....()
- d) Los calendarios lunar y solar regían también las celebraciones religiosas y las fiestas incas.....()

8.- DIBUJE LAS FASES DE LA LUNA.



1. Luna nueva

2. Cuarto creciente

3. Cuarto menguante

4. Luna llena