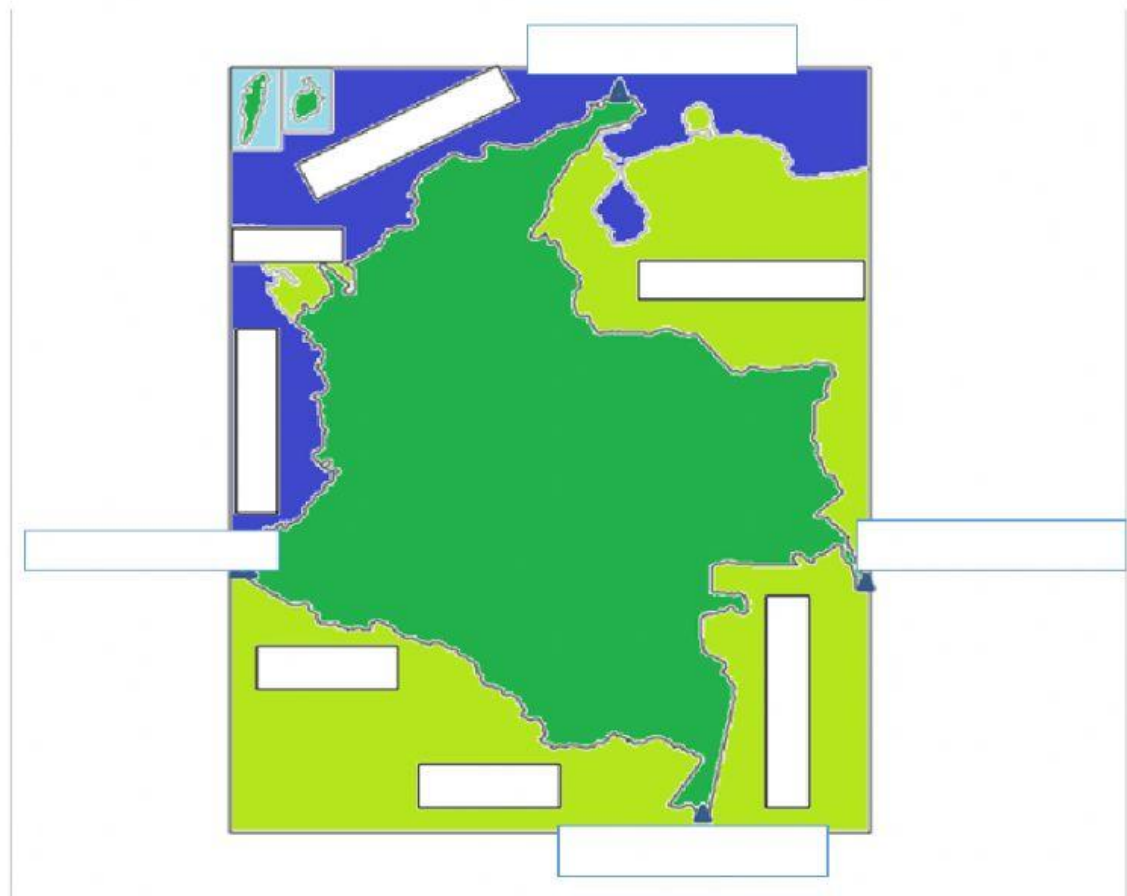


Bimestral Ciencias Sociales Grado Quinto

1. Escribe cada uno de los puntos extremos y fronteras terrestres y marítimas de Colombia, en los respectivos cuadros:

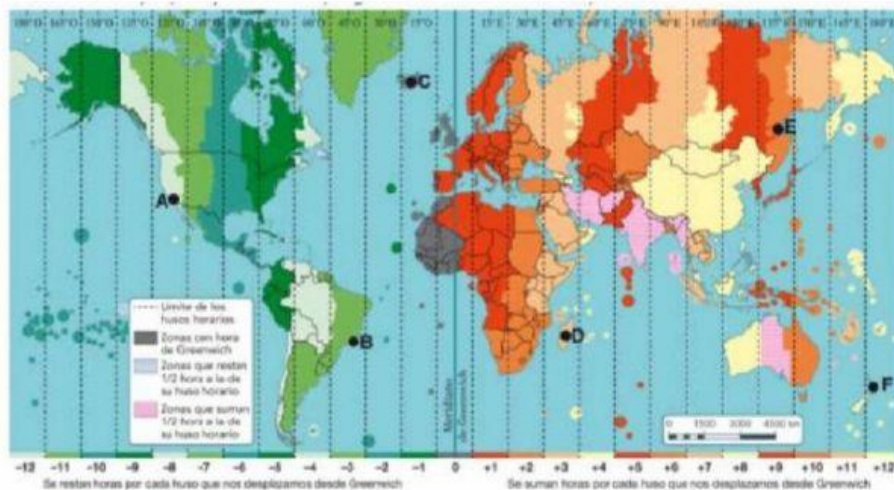


2. El territorio de la República de Colombia tiene un área continental de 1.141.748 km² más un área marítima de 928.660 km². Colombia es el vigésimo sexto país más grande del mundo y el cuarto en Sudamérica, después de Brasil, Argentina y Perú.² El país tiene soberanía en el mar Caribe, el océano Pacífico, la selva amazónica, la cuenca del Orinoco y los Andes. El territorio colombiano se encuentra ubicado en el extremo:

- A. Noroccidental de Norteamérica
- B. Suroccidental de Suramérica
- C. Noroccidental de Suramérica
- D. Nororiental de Suramérica

La respuesta correcta es

3. Ubica la hora de los puntos mencionados, teniendo en cuenta el uso de la hora militar.



1.- Si en el punto B son las 8:00.

En el punto A son las

En el punto C son las

En el punto D son las

En el punto E son las

En el punto F son las

2.- Si en el punto D son las 18:00.

En el punto A son las

En el punto B son las

En el punto C son las

En el punto E son las

En el punto F son las

4. El planeta tierra está dividido en un total de 24 husos horarios, que corresponde a cada una de las horas del día. Estas zonas, se encuentran distribuidas en franjas, y cada una de ellas tiene una medida de:

- A. 15 grados
- B. 24 horas
- C. 30 metros
- D. 180 grados
- E. Ninguna de las anteriores

La respuesta correcta es

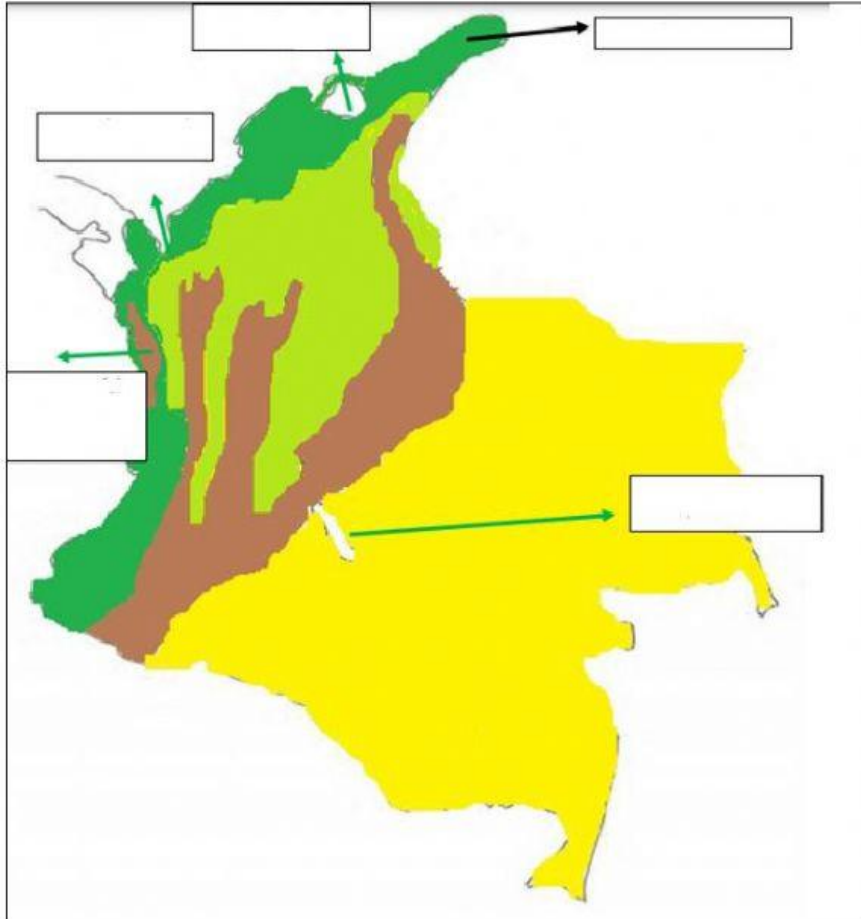
5. Completa la siguiente información

A. Observa la imagen del mapa de las unidades del relieve colombiano y contesta

- La unidad valles interandinos está representada por el color verde claro.

- La unidad está representada por el color café
- La unidad está representada por el color amarillo
- La unidad está representada por el color verde oscuro.

B. Escribe el nombre de los cinco sistemas periféricos existentes en el territorio Colombiano



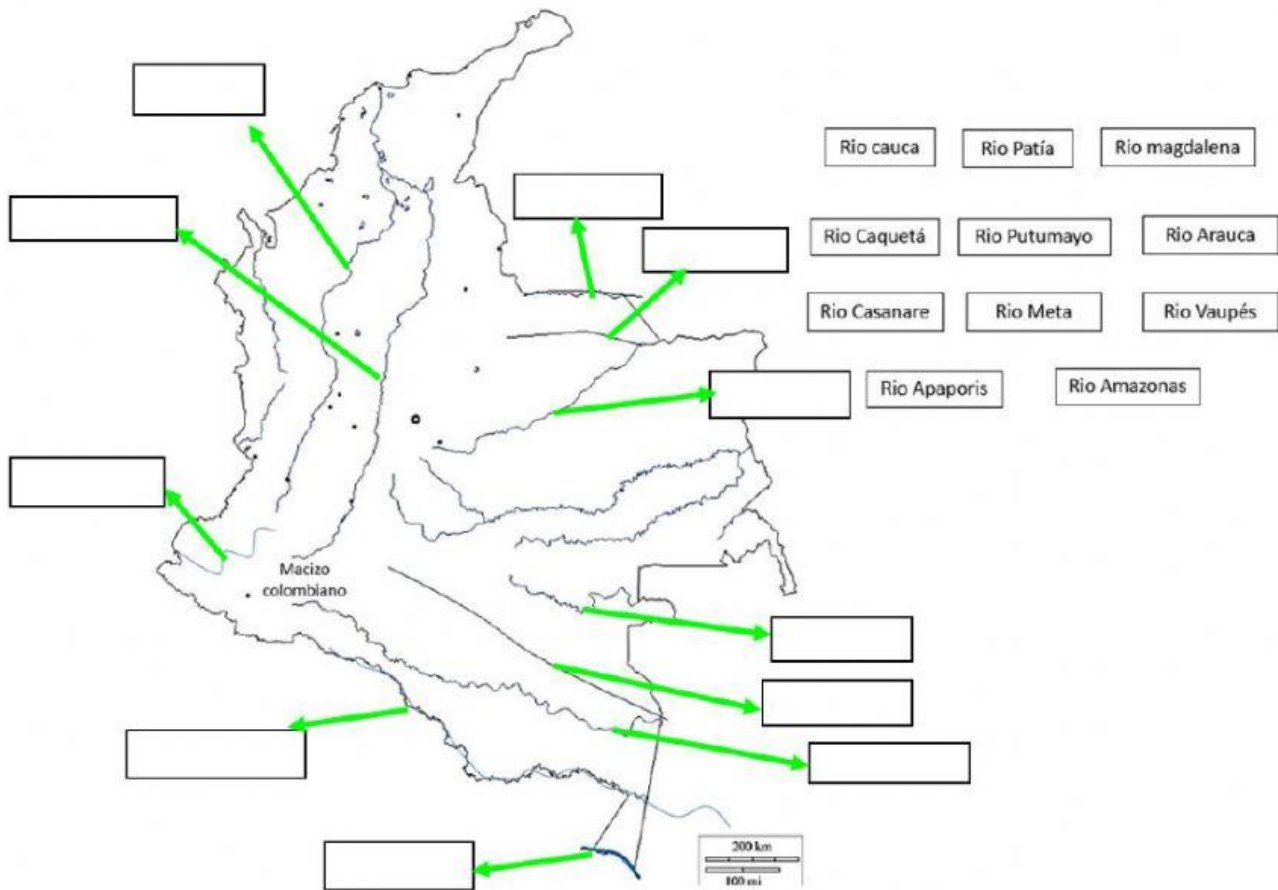
6. La región Orinoquia o también conocida como Llanos Orientales, está ubicada al oriente del país, limitando al norte y este con Venezuela, al sur con Amazonia y al oeste con la región andina. Determinada por la cuenca del río Orinoco, es un ecosistema que se caracteriza por ser una planicie. Es una región de intensa actividad ganadera donde se escenificaron importantes luchas durante la época de la Independencia colombiana y venezolana.. Los Llanos de la Orinoquia se dividen en tres subunidades los cuales son:

- Cuenca Orinoca, planicie oriental y valle llanero
- Piedemonte llanero, la llanura inundable y la altillanura
- La llanura inundable, la altillanura y valle llanero.

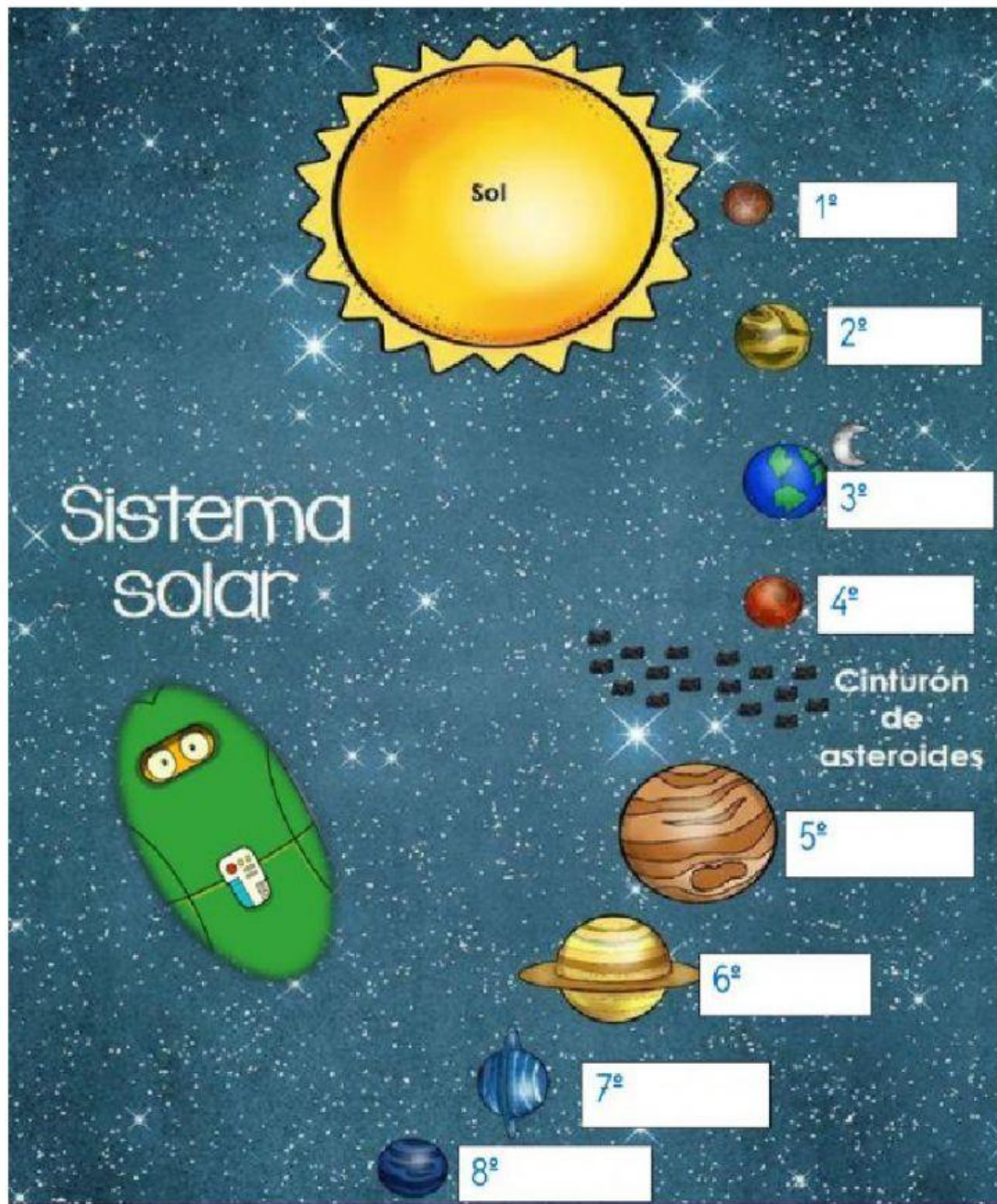
D. Piedemonte llanero, la llanura inundable y planicie occidental

La respuesta correcta es

7. Arrastra y ubica en el lugar correcto cada uno de los ríos más importantes de Colombia:



8. Escribe los nombres de los componentes del sistema solar, teniendo en cuenta el orden correspondiente



9. Los elementos básicos del Sistema Solar son:

- A. Galaxia, terremotos, estrellas, planetas, cometas, meteoritos, satélites y asteroides
- B. Galaxia, huracanes, agujeros negros, planetas, cometas, meteoritos, satélites y asteroides
- C. Estrellas, planetas, cometas, satélites, asteroides y tsunamis

D. Constelaciones, estrellas, planetas, satélites artificiales y naturales, y asteroides

E. Ninguna de las anteriores

La respuesta Correcta es ☐

10. Ayuda al extraterrestre Mike, a llegar hasta tu casa, indicándole los siguientes datos.

Sistema planetario:



Planeta:

Continente:

País:

Departamento:

Municipio:

Dirección: