


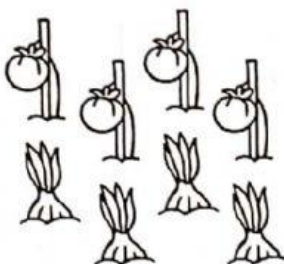


LE PAROLE DELL'ADDIZIONE

- Colora e calcola.

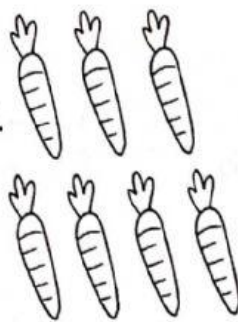


- 1** Bea ha piantato
4 piantine di pomodori
e 4 piantine di cipolle.
Quante piante **in tutto**?




$$\square + \square = \square$$

- 2** Raccoglie 3 carote, e poi
altre 4 per le amiche lucciole.
Quante carote porterà alle
lucciole **in totale** Bea?



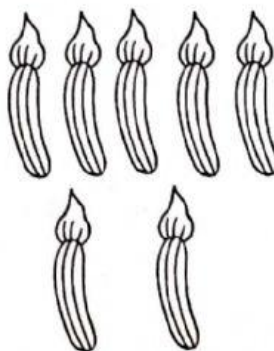
$$\square \bigcirc \square = \square$$

- 3** Si ricorda delle coccinelle,
allora decide di raccogliere
un grosso finocchio e 6 cipolle.
Quanta verdura raccoglierà
per le coccinelle
complessivamente?



$$\square \bigcirc \square = \square$$

- 4** Infine raccoglie 5 zucchini
per i lombrichi e 2 zucchini
per la minestra.
Quanti zucchini porterà
a casa **in tutto**?



$$\square \bigcirc \square = \square$$