


Bimestral Ciencias Sociales Grado Cuarto

1. Realiza el siguiente Crucigrama, teniendo en cuenta los tipos de regiones existentes

Tipos de regiones

Complete el crucigrama teniendo en cuenta los tipos de regiones



Creado con Crossword Maker en TheTeachersCorner.

Horizontal

3. Representada por la Agricultura, minería, ganadería e industria
4. Representada por los Bailes, culinaria, tradiciones religiosas y festivas

Vertical

1. Describe la división en Países, departamentos, municipios
2. Conformada por aspectos físicos como Montaña, llanura, ríos y lagos

2. Teniendo en cuenta las regiones culturales de Colombia, responde si la afirmación es falsa o verdadera:

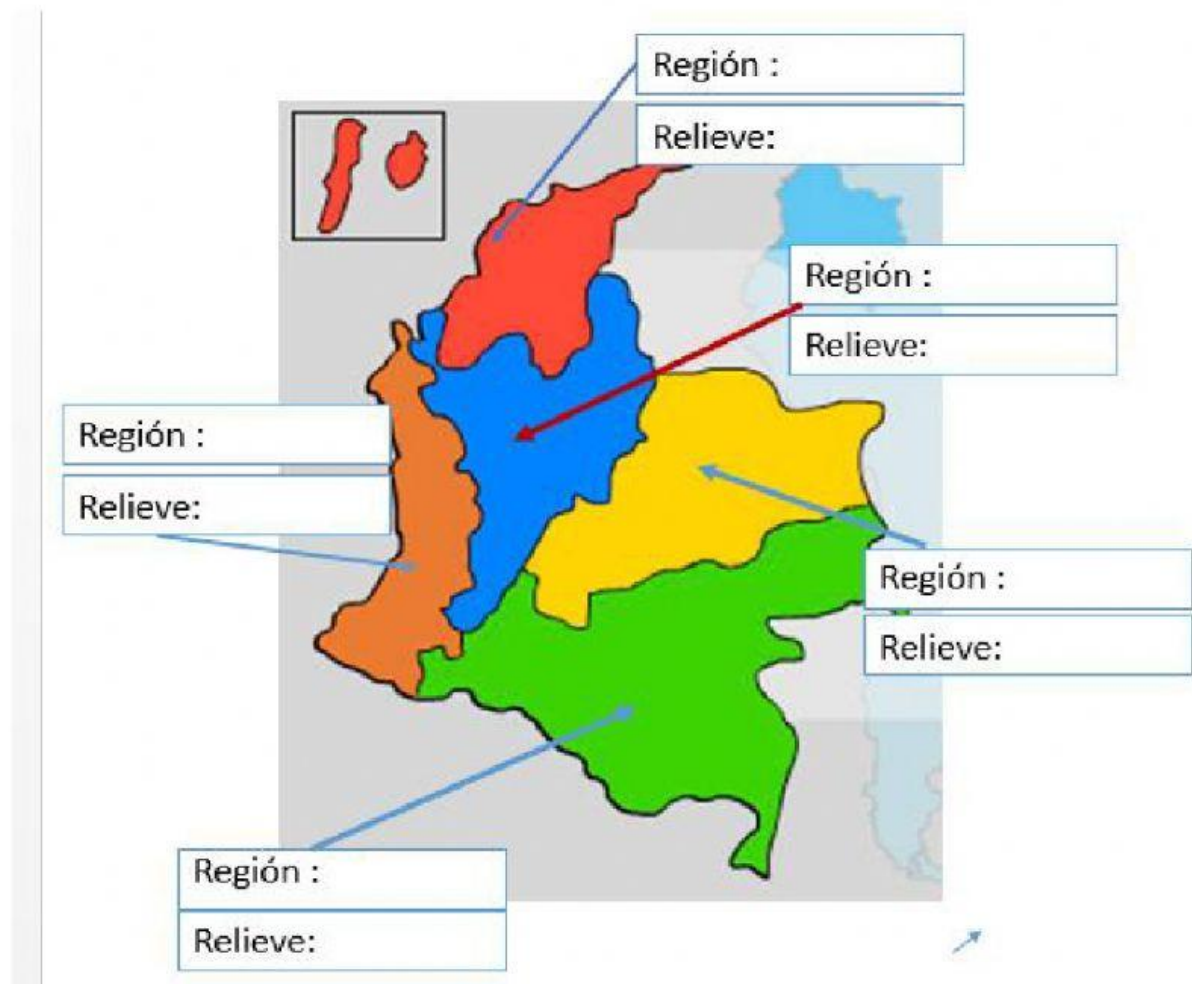
- ☐ Los pastusos son considerados como personas demasiado amables y hospitalarias
- ☐ Los rolos son los nacidos en Antioquia. Se caracterizan por ser Simpáticos, alegres, entradores y cómicos
- ☐ Los llaneros se caracterizan por pertenecer a tribus indígenas
- ☐ Los costeños se caracterizan por tener un carácter fuerte y ser personas muy laboriosas.
- ☐ Los santandereanos son directos, francos y enfáticos al decir las cosas, por eso es conocido como gente recia, de mal humor, seca y cortante
- ☐ Los chocoanos se caracterizan por pertenecer a la comunidad afrocolombiana en un 90%.
- ☐ Los paisas se caracterizan por vestir de guayabera, por ser de carácter relajado y escuchar Vallenato
- ☐ Los tolimenses son amantes de la música llanera. Le compone coplas al amor perdido, a su caballo y a su tierra. Son muy tradicionalistas y creyentes en la religión.

3. Las regiones metropolitanas son espacio conformados por una ciudad mayor o núcleo metropolitano, y los pequeños centros urbanos que la rodean y con los cuales mantiene un intercambio permanente de personas productos y servicios. Las áreas metropolitanas de Colombia son:

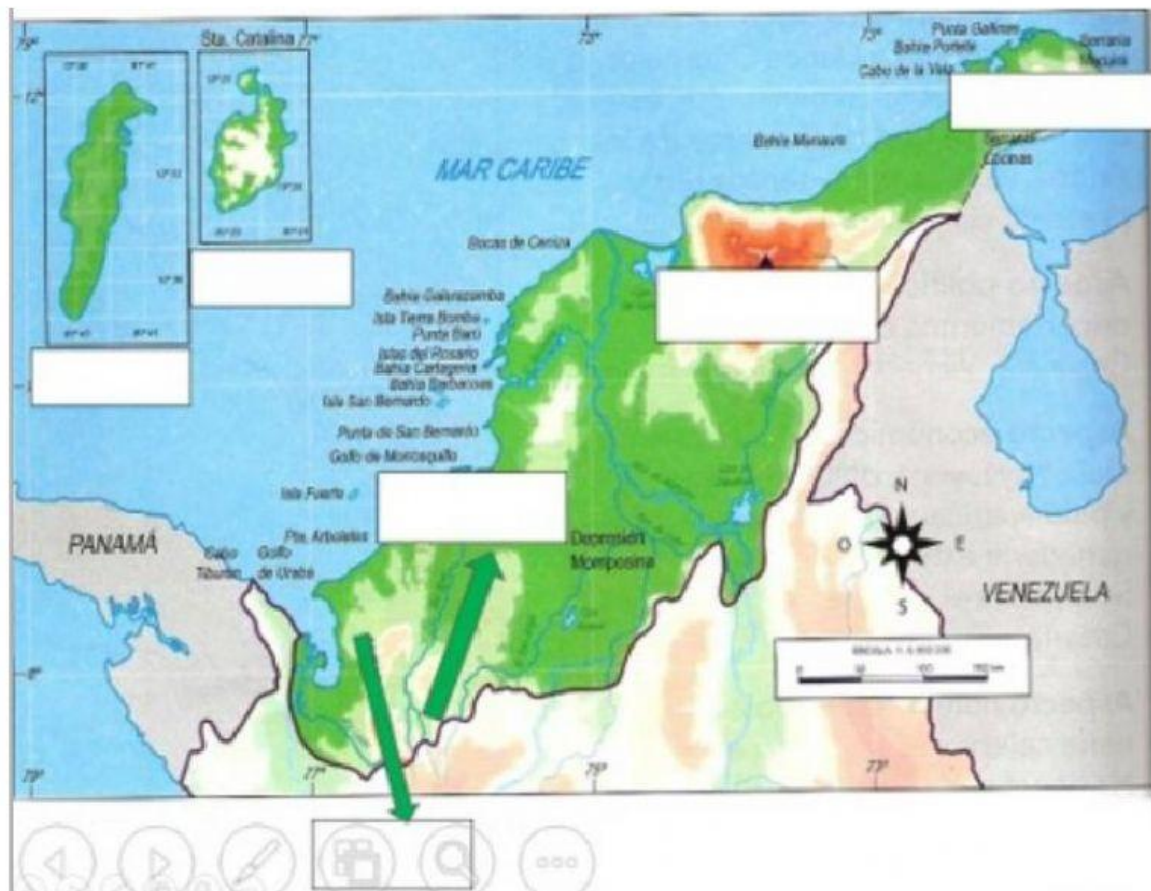
- A. Barranquilla, Cali, Medellín, Colombia y Bogotá
- B. Bogotá, Barranquilla, Bucaramanga, Armenia y Cali
- C. Bogotá, Medellín, Barranquilla, Bucaramanga y Cali
- D. Barranquilla. Medellín, Andina, Cali y Armenia

La respuesta Correcta es:

4. Escribe la región y el tipo de relieve que pertenece a cada opción del mapa



5. Ubica y escribe en cada casilla, los elementos montañosos que se encuentran en la Región Caribe, Y las dos islas más importantes de la región insular.



6. La región Amazónica de Colombia, o Amazonía, es una de las seis regiones naturales de Colombia. Está ubicada al sur del país limitando al norte con las regiones Andina y Orinoquía, al este con Venezuela, al sureste con Brasil, al sur con Perú y al suroeste con Ecuador. Comprende cerca del 40% del territorio colombiano y es la zona menos poblada del país. Está conformada por los ríos:

- A. Magdalena, Cauca, Atrato, Atrato, San Jorge, Sinú y Ranchería.
- B. Amazonas, Guaviare, Inírida, Guania y Rio Quindío
- C. Amazonas, Guaviare, Inírida, Guania, Caquetá, Putumayo, Arauca y Apaporis
- D. Caquetá, Putumayo, Apaporis, Rio Vaupés, Amazonas, Guaviare, Inírida y Guania.

La respuesta Correcta es:

7. Une con una línea cada uno de los nombres de las tres cordilleras de la región andina, con su respectiva descripción:

Cordillera Oriental	Es la más alta
Cordillera Central	La más baja y la más corta
Cordillera Occidental	Es la más larga y ancha

8. La región de Orinoquía o de los Llanos Orientales es una de las seis regiones naturales de Colombia. Está ubicada hacia el lado este de Colombia y al este de la cordillera oriental, y tiene una extensión de unos 253000 kilómetros cuadrados. Su constitución es de aproximadamente 75% de sabanas y 25% de bosques. Se destaca por desarrollar diferentes actividades económicas, dentro de las cuales se destaca la minería debido a que:

- A. En Villavicencio se destacan las procesadoras de arroz, palma africana, madera y pesca.
- B. La región cuenta con los yacimientos de petróleo y gas más grandes del país.
- C. Se destaca la cría de bovinos, porcinos y aves.
- D. En el piedemonte se cultiva arroz, palma africana, sorgo, caña de azúcar y café.

La respuesta correcta es:

9. Escribe las capitales de cada uno de los departamentos de Colombia

DEPARTAMENTO	CAPITAL	DEPARTAMENTO	CAPITAL
Amazonas		Antioquia	
Arauca		Atlántico	
Bolívar		Caquetá	
Caldas		Cauca	
Casanare		Córdoba	
Cesar		Choco	
Cundinamarca		Guajira	
Guainía		Magdalena	
Guaviare		Nariño	
Huila		Putumayo	
Meta		Risaralda	
N. de Santander		Santander	
Quindío		Tolima	
San Andrés		Vaupés	
Sucre		Valle del Cauca	
Boyacá		Vichada	

10. Escribe en el siguiente mapa conceptual la información correspondiente a las ramas del poder público:

