

Bimestral Grado segundo

1. Ubica los puntos cardinales, teniendo en cuenta el lugar por donde sale el sol en la imagen, y la información que nos presenta **Susana** a continuación:



1.- La playa está al _____.

2.- El bosque se encuentra en el _____.

3.- Si quiero ir a la granja debo ir por el _____.


4.- Para ir a la ciudad debo ir al _____.

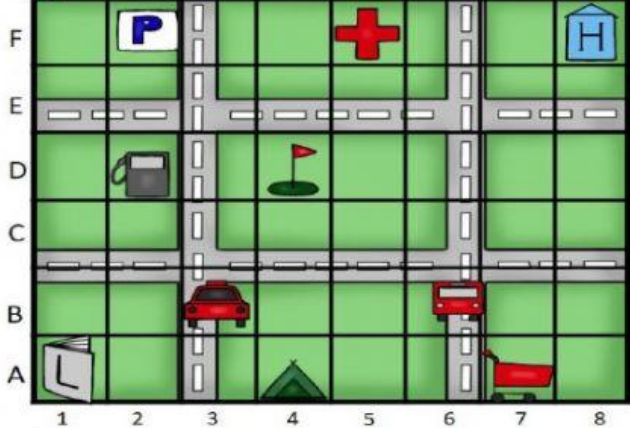
2. Los planos son representaciones gráficas que permiten plasmar la distribución de lugares o espacios pequeños, como una habitación, un casa, barrio o calles de una ciudad, vistos desde:


- A. Frente
- B. Arriba
- C. Lado
- D Abajo










La respuesta Correcta es

3. Ubica las coordenadas de los diferentes lugares representados, en el siguiente plano:

 *Figate en el plano.*









 *Busca y escribe las coordenadas*

	<input type="text"/>	<input type="text"/>		<input type="text"/>	<input type="text"/>		<input type="text"/>	<input type="text"/>
	<input type="text"/>	<input type="text"/>		<input type="text"/>	<input type="text"/>		<input type="text"/>	<input type="text"/>
	<input type="text"/>	<input type="text"/>		<input type="text"/>	<input type="text"/>		<input type="text"/>	<input type="text"/>

ACTIVIDADES
Tercer Grado

4. Los **recursos naturales** se entienden como todo componente de la naturaleza, susceptible de ser aprovechado en su estado natural por el ser humano para la satisfacción de sus necesidades. Estos se dividen en: _____ y _____

5. Escribe en cada cuadro debajo de cada imagen, la palabra Antiguo si pertenecen medios de transporte del pasado y Moderno si pertenecen medios de transporte de la actualidad.

 <input type="text"/>	 <input type="text"/>
 <input type="text"/>	 <input type="text"/>
 <input type="text"/>	 <input type="text"/>

6. Escribe V si la respuesta es verdadera, y F si es falso, para las siguientes afirmaciones sobre los recursos naturales que utilizan los medios de transporte:

- ☐ El carro utiliza gasolina para poder funcionar
- ☐ El Barco a Vapor usa el agua como recurso natural
- ☐ El Avión utiliza el aire para su funcionamiento
- ☐ La carabela usa gas para poder trasladarse por los océanos

7. Las zonas geográficas urbanas, están conformadas por muchas construcciones y diferentes sectores como el residencial, industrial, comercial, cultural, educativo y gubernamental. Su unidad geográfica es la ciudad, que a su vez se divide en :

- A. Disperso Absoluto y Disperso intercalar
- B. Municipios y departamentos
- C. Edificios y apartamentos
- D. Centros Urbanos y Megalopolis

La respuesta Correcta es

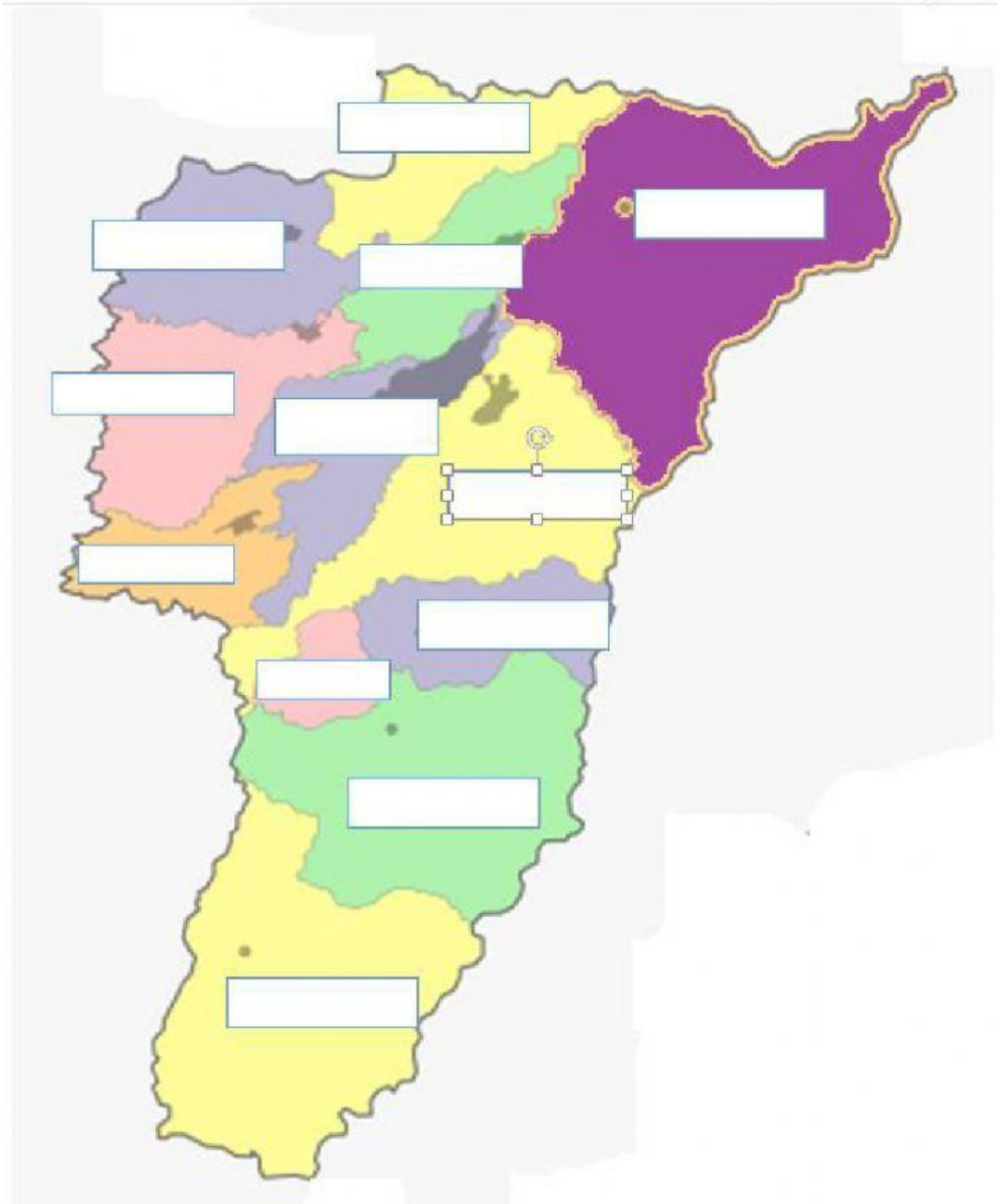
8. Los corregimientos del departamento del Quindío, representan sus zonas rurales más relevantes, las cuales son:

- A. Pereira, Cali, Medellín y Cartagena
- B. Armenia, Calarcá, Circasia, Quimbaya, Salento y Pijao
- C. Barcelona, La Virginia, Pueblo Tapao, La India y el Caimo
- D. Buenavista, Génova, La tebaida, Montenegro, Córdoba y Filandia

La respuesta Correcta es

- La capital del departamento del Quindío es:

9. .Escribe el nombre cada uno de los nombres de los municipios con su respectiva ubicación



10. Enumera en cada círculo el orden en el que fue transformado el espacio.

