

Código	R-12-02-06
Versión	05
Fecha	31-01-21
Página	1 de 2




Demuestro lo aprendido 7

Competencia:	Resuelve problemas de cantidad
Capacidad/Desempeño:	- Aplica estrategias de cálculo como multiplicaciones por 10, 100 y 1000 así como procedimientos de cálculo escrito como sumas

1. Lee las siguientes situaciones problemáticas y halla el puntaje total completando el esquema.

		
1 000 puntos	100 puntos	10 puntos













a) Luisa jugó a tiro al blanco y anotó su puntaje. **¿Cuántos puntos hizo Rosa en total? Completa el esquema.**

	= <input type="text"/> x 10	= <input type="text"/> +
	= <input type="text"/> x 100	= <input type="text"/>
	= <input type="text"/> x 1000	= <input type="text"/>
		<hr/>
		<input type="text"/>

Luisa hizo en total puntos.


Código	R-12-02-06
Versión	05
Fecha	31-01-21
Página	2 de 2

- b) Franco jugó a tiro al blanco. Su primo anotó los tiros que fueron saliendo. **¿Cuántos puntos hizo Franco en total? Completa el esquema.**

		
1 000 puntos	100 puntos	10 puntos
 	= <input type="text"/> X <input type="text"/>	= <input type="text"/> +
 	= <input type="text"/> X <input type="text"/>	= <input type="text"/>
    	= <input type="text"/> X <input type="text"/>	= <input type="text"/>
<hr/>		
<input type="text"/>		

Franco hizo en total puntos.

- c) Todos los tiros de Manuel cayeron en la zona blanca. Él representó con su material multibase el puntaje que obtuvo.



¿Cuántos puntos obtuvo Manuel? Completa.

$$\boxed{} \times \boxed{} = \boxed{}$$