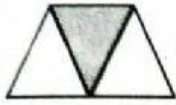


I. Berilah tanda silang (x) huruf a, b, atau c pada jawaban yang paling benar!

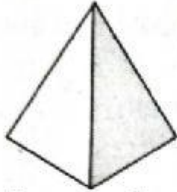
1.



Daerah pada gambar di samping yang diraster menunjukkan pecahan
(Matematika - KD 3.7)

- a. $\frac{1}{2}$ b. $\frac{1}{3}$ c. $\frac{1}{4}$

2.



Daerah yang diraster menunjukkan pecahan
(Matematika - KD 3.7)

- a. $\frac{1}{2}$ c. $\frac{1}{4}$
b. $\frac{1}{3}$

3. Sikap toleransi merupakan sikap (PPKn - KD 3.3)

- a. tercela c. menghargai
b. ikut campur

4. ... siswa SD Cendana karyawisata?

Kalimat di atas dapat dilengkapi dengan kata
(Bahasa Indonesia - KD 3.9)

- a. mengapa c. bagaimana
b. ke mana

5. Siswa SD Mutiara ke kebun binatang.

Kata yang tepat untuk melengkapi kalimat rumpang di atas adalah
(Bahasa Indonesia - KD 3.9)

- a. berkunjung c. bertemu
b. memelihara

Uji Pembelajaran 4

Skor

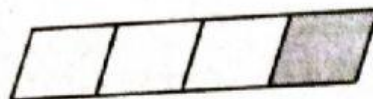
- I. Berilah tanda silang (x) huruf a, b, atau c pada jawaban yang paling benar!
- Kepada teman yang berbeda suku, sikap kita adalah (PPKn - KD 3.3)
 - berteman baik
 - saling bermusuhan
 - mengajak berkelahi
 - Suku yang berada di Sumatra adalah (PPKn - KD 3.3)
 - Nias
 - Batak
 - Sunda
 - Raka : "Hai Hana, sejak kapan kamu di sini?"
Kata sapaan pada kalimat tersebut adalah (Bahasa Indonesia - KD 3.9)
 - hai
 - Hana
 - kapan

4. Amanda : "... nama adikmu, Vira?"
Kata tanya yang tepat untuk kalimat tersebut adalah

(Bahasa Indonesia - KD 3.9)

- a. apa
- b. siapa
- c. di mana

5.



Nilai pecahan yang ditunjukkan daerah diraster di atas adalah

(Matematika - KD 3.7)

- a. $\frac{1}{2}$
- b. $\frac{1}{3}$
- c. $\frac{1}{4}$