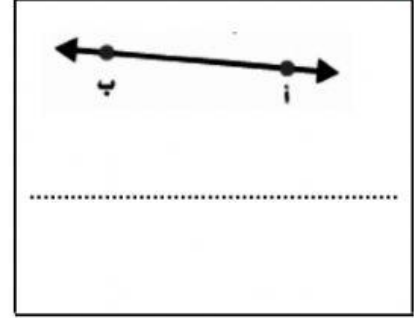
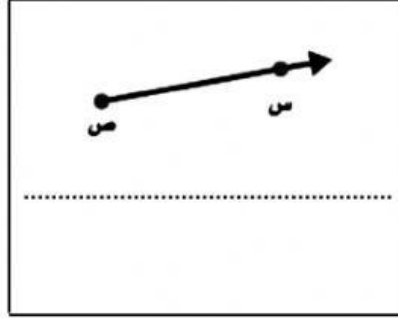
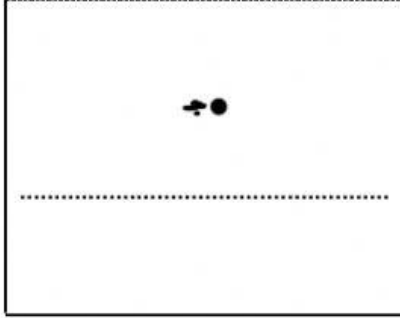


الصف : ٥ ب

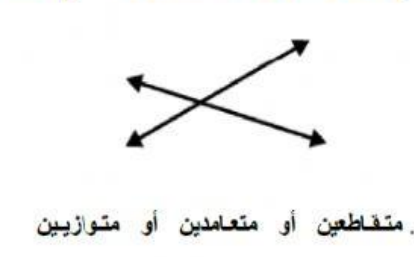
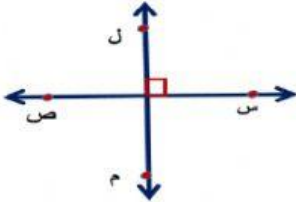
اسم الطالب /

نشاط (مفردات هندسية)

(١) اختر بسحب اسم كل شكل فيما يأتي : (نقطة - مستقيم - شعاع - قطعة)



(٢) اختر الإجابة الصحيحة (بالضغط عليها) فيما يلي : المستقيمان

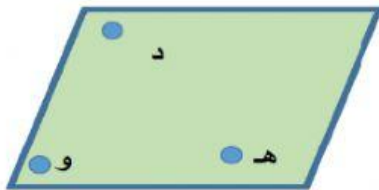
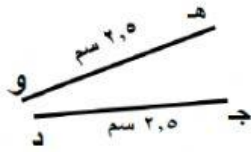


مقاطعين أو متعامدين أو متوازيين

مقاطعين أو متعامدين أو متوازيين

مقاطعين أو متعامدين أو متوازيين

(٣) صل المناسب من العمود الأول ما يناسبه في العمود الثاني



قطعة مستقيمة أ ب

القطعتان متطابقتان

المستوى د هـ و

ركن التحم الذاتي

لمراجعة الدرس يمكنك في تطبيق اليوتيوب والبحث عن عنوان الدرس

شعار الرياضيات لهذا الأسبوع

دائما يوجد لك مكان في القمة