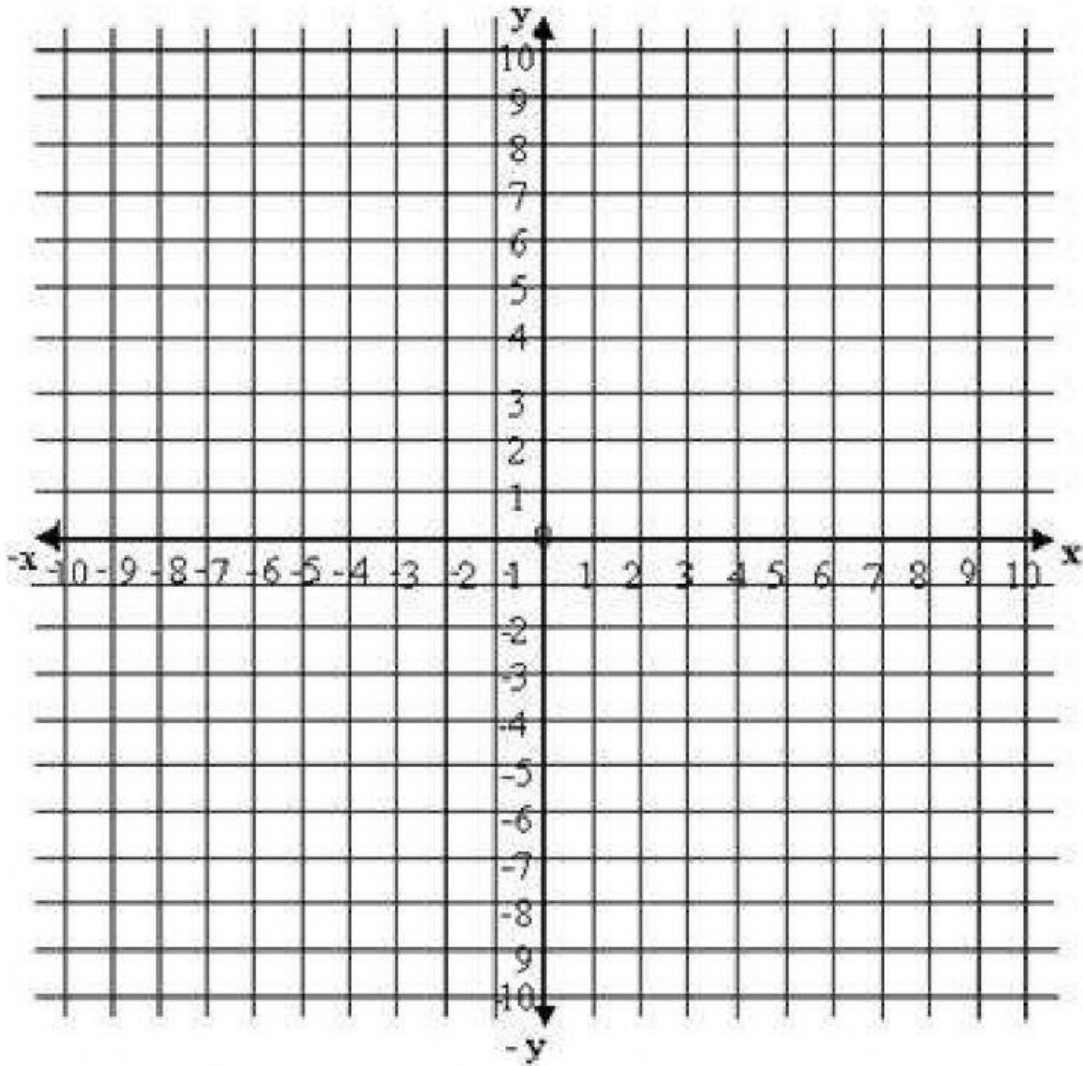


PRUEBA QUINCENAL

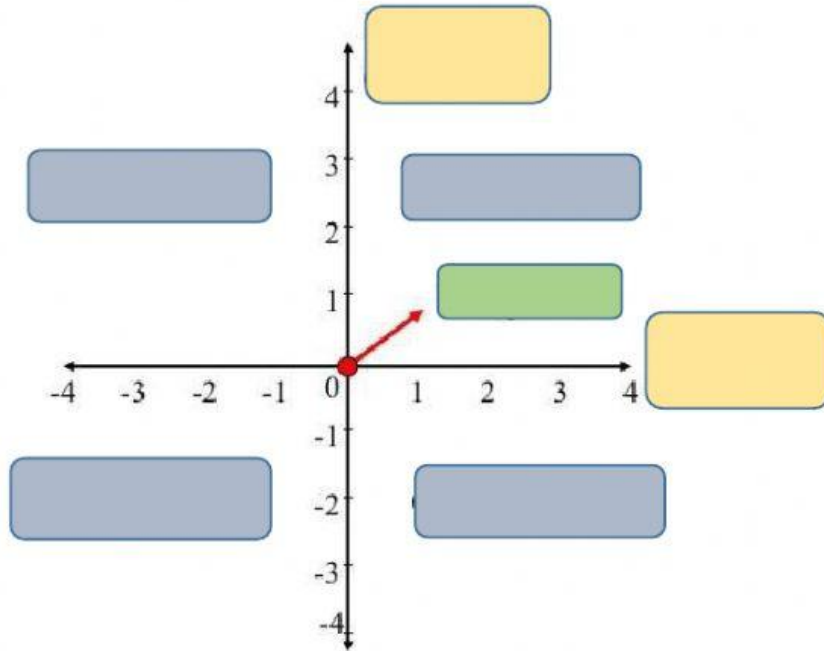
Ubicar cada coordenada correctamente:



● (2, -5) ● (9,7) ● (-2,-5) ● (3,8) ● (-1,4)



● (0,5) ● (8,0) ● (-9,4) ● (2,-6)

Colocar las partes del plano cartesiano correctamente:

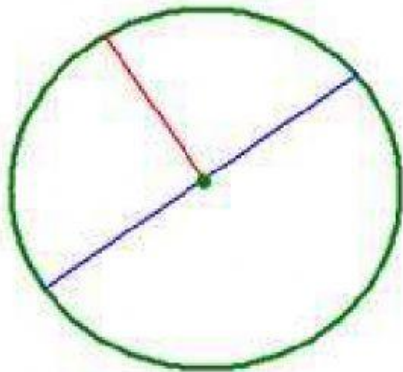


¿Cuántos círculos hay?

¿Cuántas circunferencias hay?



Unir correctamente las partes de la circunferencia:




Diametro

Centro

Radio

COLOCAR EL NOMBRE CORRECTO DE LOS SIGUIENTE SIGNOS:



RESOLVER LOS SIGUIENTES EJERCICIOS:

$$12 \square 12$$

$$13 \square 12$$

$$20 \square 16$$

$$17 \square 19$$

$$18 \square 18$$

$$15 \square 12$$

RESOLVER LAS SIGUIENTES DIVISIONES DE UNA CIFRA:

$1239 \div 5 =$

$735 \div 6 =$

$368 \div 3 =$

$48 \div 2 =$

$8373 \div 4 =$

$36 \div 3 =$

RESOLVER LAS SIGUIENTES DIVISIONES DE DOS CIFRAS:

$$\begin{array}{r|l} 8867 & 44 \\ \hline \end{array}$$

$$\begin{array}{r|l} 9678 & 32 \\ \hline \end{array}$$

$$\begin{array}{r|l} 9254 & 64 \\ \hline \end{array}$$

$$\begin{array}{r|l} 5349 & 38 \\ \hline \end{array}$$