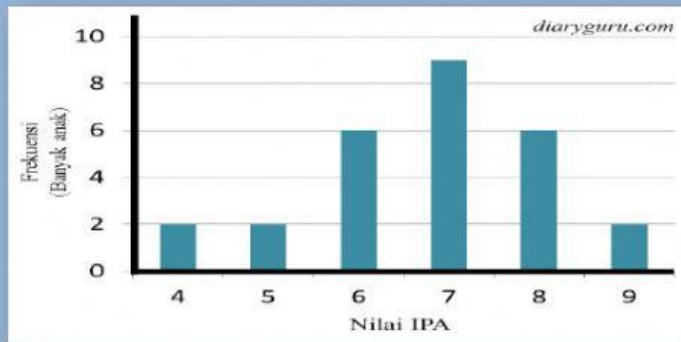


4. Nilai ulangan IPA disajikan dalam diagram batang berikut



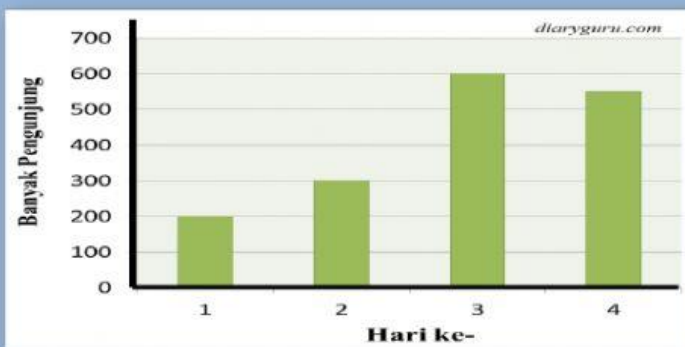
Rata-rata nilai ulangan IPA siswa adalah.....

- a. 4,8 c. 6,8
b. 5 d. 7

5. Rata-rata nilai ulangan 4 orang siswa adalah 7,5. Jika nilai Tina dimasukkan, maka rata-rata nilai mereka 8. Nilai ulangan Tina adalah.....

- a. 7 c. 9
b. 8 d. 10

6. Berikut ini data banyak pengunjung di pasar Malam selama empat hari berturut-turut



Modus data pada hari ke-.....

- a. 1 c. 3
b. 2 d. 4

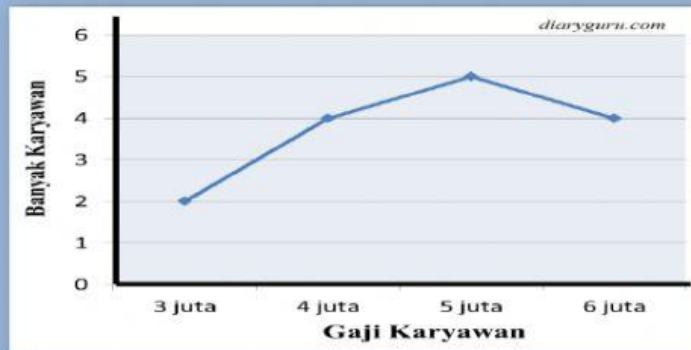
7. Nilai ulangan Matematika siswa kelas VI Semester I adalah sebagai berikut:

6, 6, 8, 8, 8, 7, 7, 7, 8, 6, 6, 6,
8, 9, 10, 9, 9, 9, 9, 6, 6, 8, 7

Modus data tersebut adalah....

- a. 6 c. 8
b. 7 d. 9

8. Berikut ini data gaji karyawan di perusahaan Melati.



Modus data tersebut pada gaji.....

- a. 3 juta c. 5 juta
b. 4 juta d. 6 juta
9. Data tinggi badan pemain sepak bola SD Tunas Bangsa sebagai berikut.

143, 153, 150, 143, 155, 143, 155, 140, 143
153, 150, 143, 155, 140, 155, 143, 155, 140
140, 140, 150, 155, 143, 153, 153, 140

Modus dari data tersebut adalah....

- a. 140 c. 153
b. 143 d. 155
10. Jumlah nilai siswa kelas VI adalah 160. Jika rata-rata mereka 8, maka jumlah siswa kelas VI adalah...
- a. 10 orang c. 20 orang
b. 15 orang d. 25 orang
11. Siswa kelas I sebanyak 25 orang memiliki usia rata-rata 7,2. Jika usia mereka semua dijumlahkan, maka hasilnya....
- a. 160 c. 200
b. 180 d. 220
12. Ibu Ayu memiliki tiga orang anak. Usia anaknya masing-masing 6 tahun, 8 tahun, dan 10 tahun. Usia rata-rata anak ibu Ayu adalah.....
- a. 6 c. 8
b. 7 d. 9
13. Perhatikan data berikut!
44, 46, 48, , 50, 49, 52
Jika selisih data terkecil dan terbesar adalah 11, maka nilai adalah.....
- a. 57 c. 52
b. 55 d. 51

14. Perhatikan nilai ulangan Bahasa Inggris siswa kelas VI!

9, 8, 7, 10, 8, 7, 6, 6, 7, 10

Banyak siswa yang memperoleh nilai diatas nilai rata-rata adalah.....

- a. 2 orang
- b. 3 orang
- c. 4 orang
- d. 5 orang

15. Berikut ini data berat badan keluarga pak Anton.

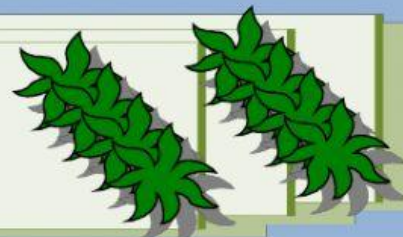
100 kg, 80 kg, 90 kg, 70 kg ,80 kg

Median data tersebut adalah.....

- a. 60 kg
- b. 70 kg
- c. 80 kg
- d. 90 kg



Tarik pilihan jawaban
Taruh pada kolom
yang tersedia



Perhatikan data hasil pengukuran panjang bambu di bawah ini!

Tinggi Bambu (cm)	Banyaknya
500	3
600	4
700	8
800	2
900	3

diaryguru.com

o Mediannya adalah

o Modus data di atas adalah

o Mean data di atas adalah

700

700

690



Jawablah pertanyaan
di bawah ini!



- ✚ Nilai rata-rata ulangan 14 siswa adalah 7,5. Jika nilai Budi dan Anton dimasukkan, maka nilai rata-rata ulangan adalah 7,75. Rata-rata nilai Budi dan Anton adalah

- ✚ Jarak rumah ke sekolah siswa kelas II sebagai berikut

Jarak Rumah-Sekolah (m)	Banyak Siswa
1.000	3
2.000	4
3.000	4
4.000	3

diaryguru.com

Median jarak rumah ke sekolah siswa kelas II adalah

- ✚ Nilai rata-rata ulangan harian 10 orang siswa kelas III adalah 7,8. Jika nilai salah satu siswa dihilangkan, maka rata-rata nilai ulangan adalah 8. Nilai salah satu siswa yang dihilangkan tersebut adalah

- ✚ Tono memiliki 6 orang tetangga. Dia memberikan beras masing-masing 5kg, 10kg, 6kg, 6kg, 10kg, 5kg, 6kg, 10,kg, 5kg, 5kg, 10kg. Median dari berat beras yang diberikan Tono kepada tetangganya adalah