





EL MOVIMIENTO

1.- ¿Qué tienes que hacer para mover estos objetos: empujar o halar?
Completa la tabla.

				
empujar				
halar				

2.- Selecciona dónde se encuentran los objetos.



3.- Marca las respuestas correctas.

El movimiento es cambiar de posición.	SI	NO
La bicicleta se mueve más rápido que un avión.	SI	NO
Los objetos se pueden desplazar sólo por el aire.	SI	NO
Una pelota se mueve cuando se patea.	SI	NO