



Nome: _____

Ao terminar clique em FINISH no final da atividade. Clique nesta imagem.
Aparecerá o número de respostas certas. Tire um print da tela e me envie

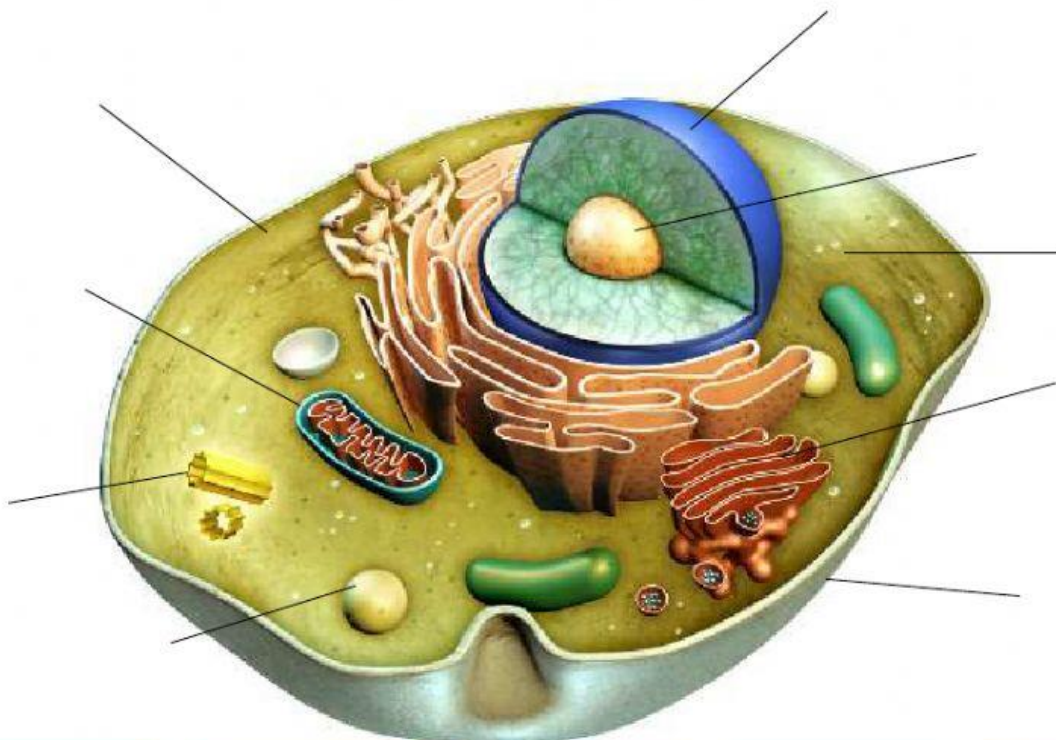


As células



As **células** são as menores **unidades estruturais e funcionais dos seres vivos**. Com exceção dos **vírus**, todos os organismos vivos possuem células. Vamos conhecer!

1- Complete a célula, identificando as suas partes básicas e as estruturas nelas encontradas.
Arraste as palavras para o lugar correto.



Centríolos

Núcleo

Citoplasma

Nucléolo

Membrana plasmática

Lisossomos

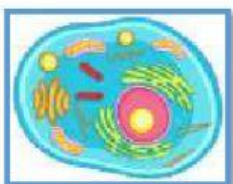
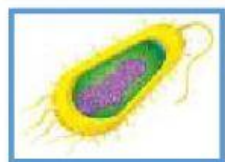
Ribossomos

Mitocôndrias

Reticulo endoplasmático



2- As células podem ser classificadas de diferentes maneiras, sendo uma dessas a divisão em dois grandes grupos: procariontes e eucariontes. ordene corretamente a célula ao grupo correspondente.



Células eucariontes

Células eucariontes

Células procariontes

Citologia é a parte da ciência que estuda as células.

- 1- Seres vivos formados por muitas células.
- 2- Seres vivos formados por apenas uma célula.
- 3- É a maior porção da célula.
- 4- Parte que controla todas as atividades da célula.
- 5- Menor unidade do corpo humano.
- 6- São células que podem ser vistas sem microscópio.
- 7- Componente mais abundante no citoplasma.
- 8- Aparelho usado para ampliar o tamanho da célula.
- 9- Envolve a célula permitindo a entrada e saída de substâncias.

Mostre que você aprendeu sobre o assunto.

Complete a cruzadinha.

