


Professor: _____ Data ____/____/____

Nome: _____ Turma: _____




Números Ordinais

1) Ligue os pontos corretamente dos números ordinais com as suas representações em português.



- Sexto
- Décimo Primeiro
- Décimo Quinto
- Segundo
- Quinto
- Décimo Segundo
- Décimo Quarto
- Décimo
- Terceiro
- Nono
- Décimo Terceiro
- Sétimo
- Primeiro
- Quarto
- Oitavo

2) Observe a ordem da fila abaixo de garotos. Determine qual é a posição correta de cada garoto selecionado:

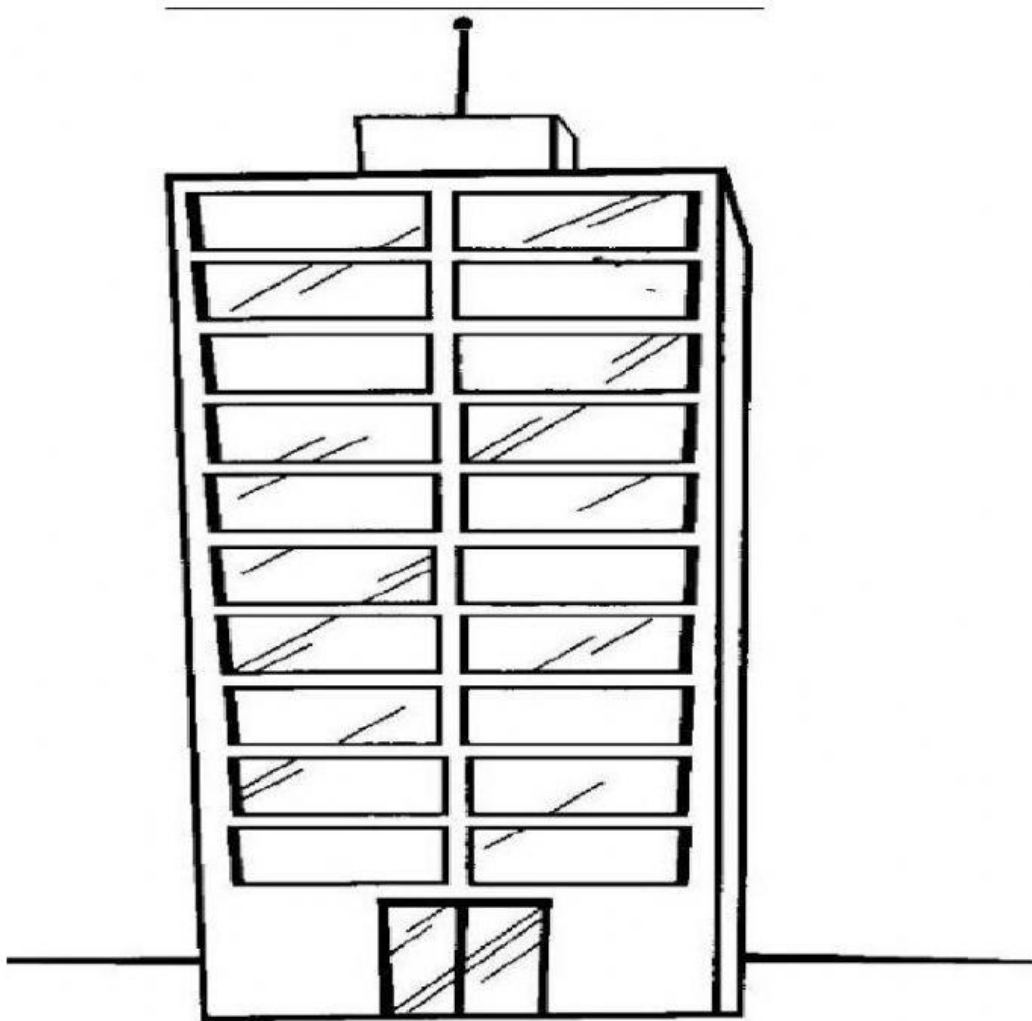


3º

7º

10º

15º



3) João Vitor mora em um edifício de 10 andares. Ele estava no 3º andar. Escreva para que andar ele foi.

- a) Subiu dois andares. Foi para o _____ andar.
- b) Subiu mais três andares. Foi para o _____ andar.
- c) Desceu um andar. Foi para o _____ andar.
- d) Subiu três andares. Foi para o _____ andar.
- e) Desceu dois andares. Foi para o _____ andar.