

NOME: _____

DATA: _____

1- ENCAIXE O NOME CORRETO DE CADA SÓLIDO GEOMÉTRICO



CONE

PIRÂMIDE

PARALELEPÍPEDO

CILÍNDRO

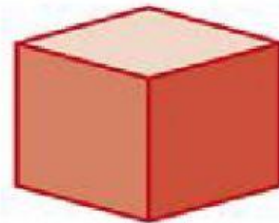
CUBO

ESFERA




" Toda conquista começa com a decisão de tentar. "

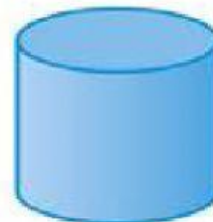
2. LIGUE AS FIGURAS AOS SÓLIDOS GEOMÉTRICOS QUE MAIS SE ASSELMELHAM.



cubo



esfera



cilindro



cone

“O único lugar onde o sucesso vem antes do trabalho é no dicionário.”



OFERTAS DE FRUTAS E VERDURAS

ABACAXI DOCE KG **2,34**

MAÇÃS ACIDULAS KG **5,89**

OVOS INTEGRALIS DOIS DIAS COM 70 UNIDADES **7,99**

GOINHO FRESCO PIMENTÃO DOCE KG **2,99**

BRANCO DE LEITE KG **1,89**

LIMÃO TAVEL KG **1,29**

BANANA KG **4,59**

ALMOLHO PIMENTÃO KG **1,29**

PIMENTÃO VERDE KG **2,99**

BERLIM PIMENTA KG **1,99**

ALHO ROXO KG **1,79**

CEVOLA KG **2,19**

ABACAXI DOCE KG **2,99**

PIMENTÃO VERDE KG **0,99**

BROCOLI ALBA DOCE KG 1,800 **5,99**

Salada de Feijão

Feijão de feijão (feijão de feijão)
Feijão de feijão (feijão de feijão)
Feijão de feijão (feijão de feijão)
Feijão de feijão (feijão de feijão)
Feijão de feijão (feijão de feijão)
Feijão de feijão (feijão de feijão)
Feijão de feijão (feijão de feijão)
Feijão de feijão (feijão de feijão)
Feijão de feijão (feijão de feijão)
Feijão de feijão (feijão de feijão)

Salada de Feijão

Feijão de feijão (feijão de feijão)
Feijão de feijão (feijão de feijão)
Feijão de feijão (feijão de feijão)
Feijão de feijão (feijão de feijão)
Feijão de feijão (feijão de feijão)
Feijão de feijão (feijão de feijão)
Feijão de feijão (feijão de feijão)
Feijão de feijão (feijão de feijão)
Feijão de feijão (feijão de feijão)
Feijão de feijão (feijão de feijão)

COMPRE ATRAVÉS DO APLICATIVO CENTERBOX

Agende o horário de entrega e receba produtos de qualidade no conforto de sua casa!

Agende
Agende
Agende
Agende
Agende
Agende
Agende
Agende
Agende
Agende

Agende
Agende
Agende
Agende
Agende
Agende
Agende
Agende
Agende
Agende

3.OBSERVE O FOLHETO DE SUPERMERCADO ACIMA E RESPONDA.

A) QUAL O PRODUTO MAIS CARO? _____

B) QUAL O PRODUTO MAIS BARATO? _____

C) QUAL PRODUTO CUSTA MENOS DE R\$ 1,00? _____

4. ESCOLHA TRÊS PRODUTOS DO FOLHETO PARA COMPRAR, ESCRVA NA TABELA, E CALCULE QUANTO VOCÊ GASTARIA COM AS COMPRAS.

PRODUTO	PREÇO
VALOR TOTAL	R\$:

Não deseje que as coisas sejam mais fáceis: deseje que você seja melhor.

