

Pasangkan gambar berikut dengan pecahan yang sesuai!

Banyaknya siswa laki-laki pada kumpulan siswa berikut sesuai dengan nilai pecahan ...



☐  $\frac{1}{2}$



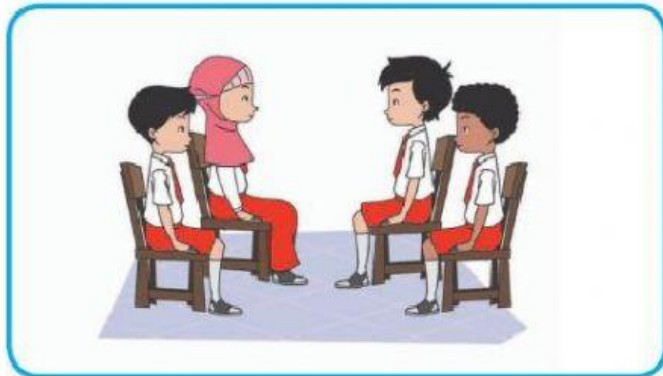
☐  $\frac{1}{3}$




☐  $\frac{1}{4}$




Banyaknya siswa perempuan pada kumpulan siswa berikut sesuai dengan nilai pecahan ...



$$\blacksquare \frac{1}{2}$$



$$\blacksquare \frac{1}{3}$$



$$\blacksquare \frac{1}{4}$$

