

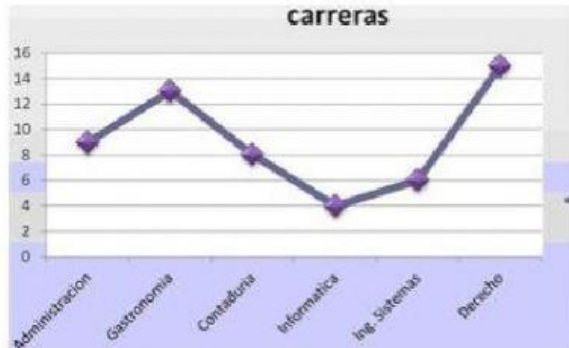


TAREA: SEMANA 7

Resolver todos los problemas con procedimiento. Completar.

1.-

El siguiente diagrama representa

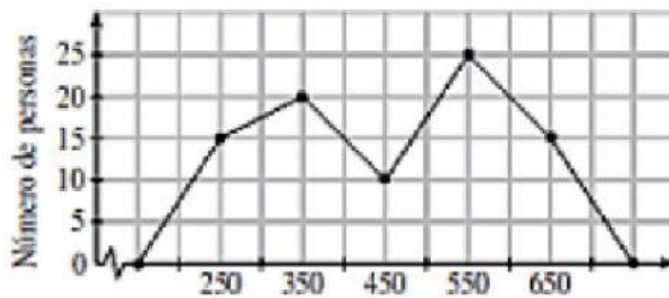


Solución

Diagrama

2.-

Según el siguiente diagrama lineal, ¿Cuál es el tamaño de la muestra?



Procedimiento

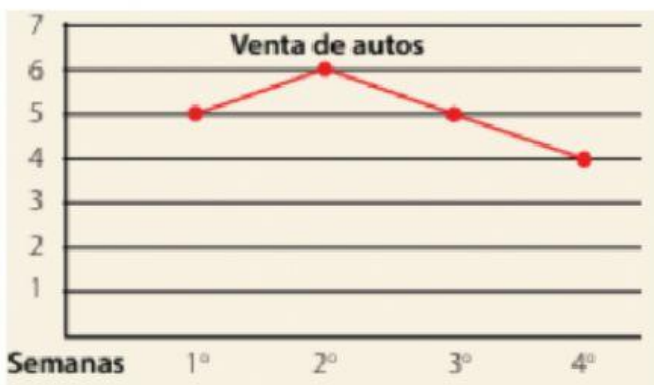
$$15 + \square + 10 + \square + 15 = \square$$

R//

El tamaño de la muestra es

3.-

Según el diagrama lineal cuantos autos se vendieron en la primera y cuarta semana



Procedimiento

$$5 + \square = \square$$

R//

Se vendieron autos



4.-

Dado el siguiente diagrama lineal, realice la tabla de valores.

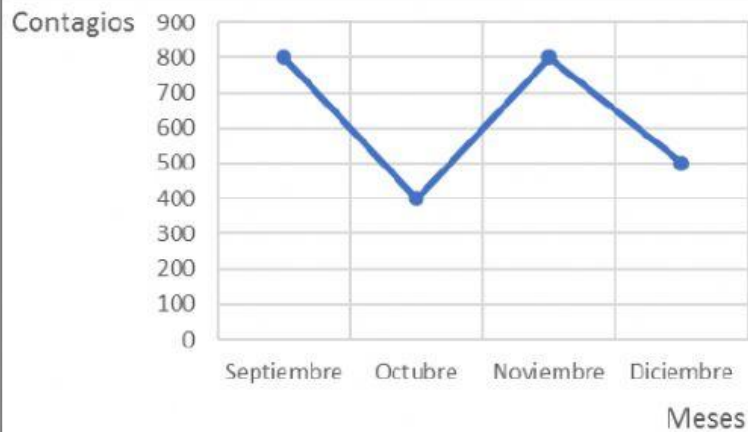


Tabla de valores

Meses	Contagios
	800
Octubre	
Noviembre	
Diciembre	