



Instituto Salesiano Don Bosco


Practica de matemática.

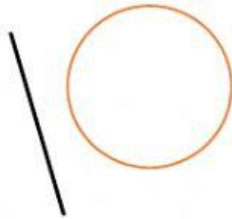
Cuarto grado, segundo ciclo de secundaria.

Tema: Posición relativa de dos circunferencias en el plano.

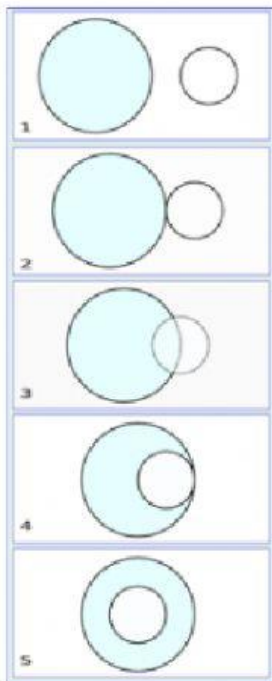
I. Identifica y escribe las líneas trazadas en la circunferencia.







II. Observa la imagen y escribe el nombre de la posición relativa de cada par de circunferencias.



1. _____

2. _____

3. _____

4. _____

5. _____

III. Completa con la definición de punto, recta y circunferencia que consideres que consideres.

- a. _____ es aquel punto que se encuentra ubicado fuera de la circunferencia.
- b. _____ es aquella recta que toca la circunferencia en dos puntos.
- c. _____ son aquellas circunferencias que comparten el mismo centro.
- d. _____ punto que se grafica dentro de la circunferencia.
- e. _____ es cuyo punto se encuentra encima de uno de los puntos de la circunferencia.
- f. _____ son circunferencias que se tienen un único punto en común, exterior o interiormente.

Delys Florentino