



## MATEMÁTICAS

# NÚMEROS DECIMALES

1. Relaciona las columnas con los nombres correctos.

6.2

Siete enteros, seis décimos

1.5

Seis décimos

0.6

Ocho enteros, un décimo

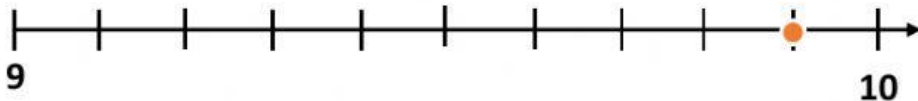
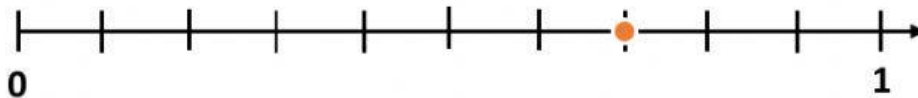
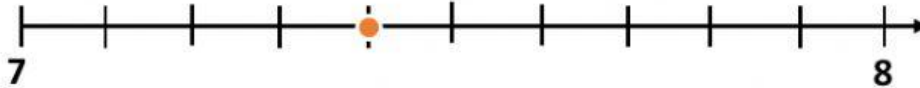
8.1

Seis enteros, dos décimos

7.6

Un entero, cinco décimos

2. Observa estas rectas y escribe el número que está marcado en cada una.



Recuerda:

### Comparación de números decimales

Para saber cuál número decimal tiene mayor valor, primero debes fijarte en el número entero y después en el decimal.

$3.2$  y  $3.6$

Los enteros:  $3 = 3$

Los decimales:  $6 > 2$

Entonces:  $3.2 < 3.6$

3. Selecciona las comparaciones correctas.

☐

$0.3 = 3.0$

☐

$6.7 > 8.6$

☐

$1.7 > 1.2$

☐

$0.4 = 0.4$

☐

$17.5 < 17.6$

☐

$9.1 > 1.9$