



# COLEGIO DIEGO THOMSON

## Evaluación Mensual


Grado: 1ro

Curso: Matemáticas


Profesor: Miss Patty

Apellidos y nombres: \_\_\_\_\_

1- Coloca la manzana encima de la mesa y la pelota debajo de la mesa





2- Coloca X al gato que está fuera de la caja de arena




3- Coloca la niña lejos de la casa y el auto cerca de la casa





4- Haz clic en la carita que indica si o no en cada enunciado





**F**


  




∉



**F**







∉



**F**







∈



**F**



∈

**F**

5- Escribe el número que indica la cantidad de elementos de cada conjunto

