





EL CICLO DEL AGUA

<p>E _____</p>  <p>El _____ calienta el agua de los ríos, mares y lagos... y parte de ella pasa a estado _____.</p>	<p>C _____</p>  <p>El vapor de agua se enfría y se condensa en pequeñas _____ de agua que forman las _____.</p>	<p>P _____</p>  <p>Las gotas se unen y aumentan de tamaño y caen en forma de _____ y _____.</p>	<p>R _____</p>  <p>El agua de los ríos acaba en los _____ y _____. Y se inicia de nuevo el _____.</p>
--	--	--	--