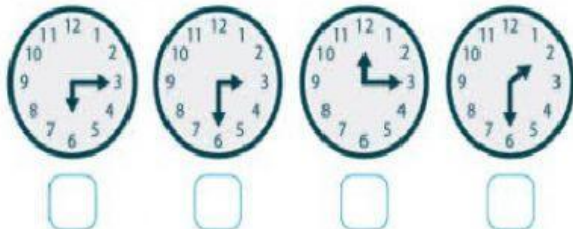



Nombre: _____ Curso: _____

1. Selecciona la respuesta correcta:


¿Qué reloj marca las 3 y media?




¿Qué reloj marca las 4 y cuarto?



¿Qué reloj marca las 5 y cuarto?



¿Qué reloj marca las 12 y media?



2. Une con flechas:



03 : 30

La una y media.



07 : 15

Las tres y media.



05 : 45

Las seis menos cuarto.



01 : 30

Las siete y cuarto.