




# Star Math 13/07

## ครั้งที่ 3 Mercury

### คิดเลขเร็ว

1.  $4 + 1 = \underline{\quad}$
2.  $9 + 0 = \underline{\quad}$
3.  $5 + 3 = \underline{\quad}$
4.  $9 - 3 = \underline{\quad}$
5.  $8 - 2 = \underline{\quad}$

### โจทย์ปัญหา

1. มีกล้วย 2 หวี ซื้อมาอีก 4 หวี รวมมีกล้วยกี่หวี  
ตอบ รวมมีกล้วย  $\underline{\quad}$  หวี 
2. มีช้าง 5 เชือก หนีไป 3 เชือก เหลือช้างกี่เชือก  
ตอบ เหลือช้าง  $\underline{\quad}$  เชือก 
3. ต้นมะนาวมีผลสีเหลืองอยู่ 6 ผล มีผลสีเขียวอยู่ 5 ผล ต้นมะนาวผลสีเหลืองมากกว่าสีเขียวกี่ผล  
ตอบ ต้นมะนาวผลสีเหลืองมากกว่าสีเขียว  $\underline{\quad}$  ผล 

### ทำทาย

ตัวเลขชุดหนึ่งเรียงลำดับดังนี้: 2, 4, 6, 8,  $\underline{\quad}$ , 14



จงหาตัวเลขที่หายไปในช่วงว่าง