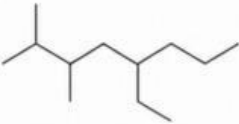
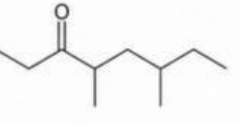
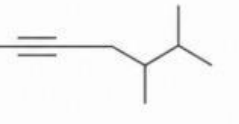
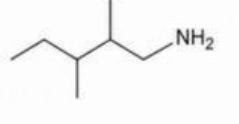
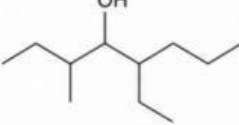
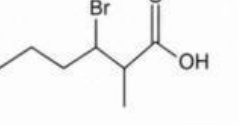
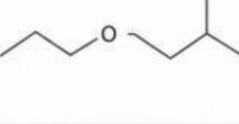
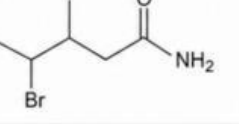
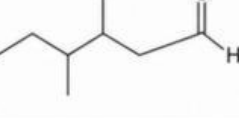


ชื่อ.....ชั้น.....เลขที่.....

## เรื่อง เคมีอินทรีย์

จงนำตัวอักษรหน้าชื่อสารประกอบอินทรีย์ที่กำหนดให้ ไปเติมลงในตารางให้ถูกต้องสัมพันธ์กับสูตรโครงสร้าง

- |  |                                       |
|--|---------------------------------------|
| <b>A</b> 3-bromo-2-methylhexanoic acid | <b>F</b> 3,4-dimethylhexanal          |
| <b>B</b> 5-ethyl-2,4-dimethyloctane    | <b>G</b> 2-methyl-1-propoxypropane    |
| <b>C</b> 2,3-dimethylpentan-1-amine    | <b>H</b> 4,6-dimethyloctan-3-one      |
| <b>D</b> 5-ethyl-3-methylhexan-4-ol    | <b>I</b> 5,6-dimethylhept-2-yne       |
| <b>E</b> 4-bromo-3-methylpentanamide   | <b>J</b> ethyl 2,3-dimethylpentanoate |

ข้อ	สูตรโครงสร้าง	ชื่อสารประกอบอินทรีย์	ข้อ	สูตรโครงสร้าง	ชื่อสารประกอบอินทรีย์
1.			6.		
2.			7.		
3.			8.		
4.			9.		
5.			10.	