

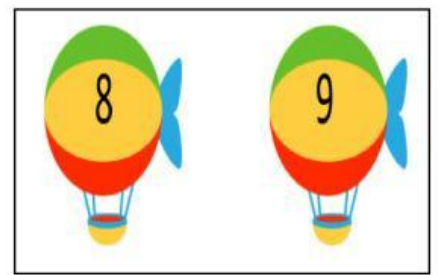


Họ và tên:

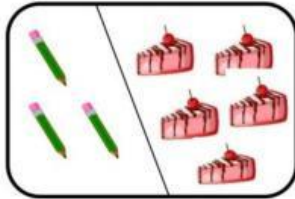
Lớp : 1A...

PHIẾU TƯ DUY 6


Bài 1: Con chọn đồ vật ghi số bé hơn trong mỗi hình.



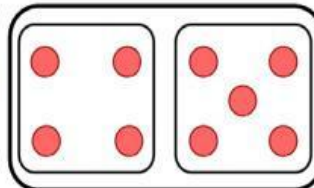
Bài 2: Con hãy điền số và dấu vào ô trống (theo mẫu).



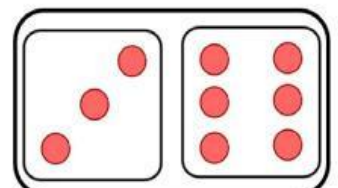
3 < 5



2 4




4




6


Bài 3: Tìm số thích hợp.



4 1

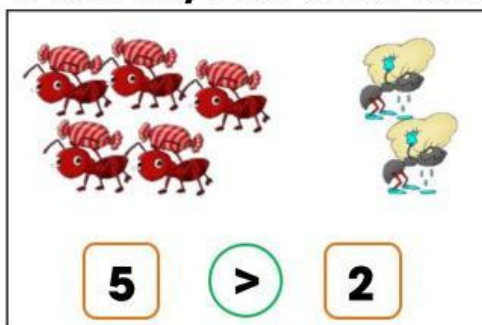


3 0



6 8

Bài 4: Con hãy điền số và dấu vào ô trống (theo mẫu).



5 > 2

