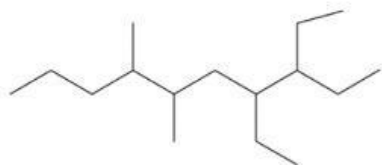
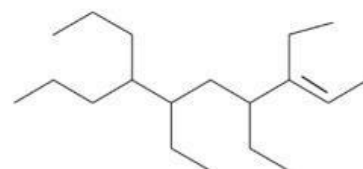


กิจกรรมการเรีบนรู้ที่ 5 เรื่อง การจับคู่ชื่อกับโครงสร้างสารประกอบไฮโดรคาร์บอน

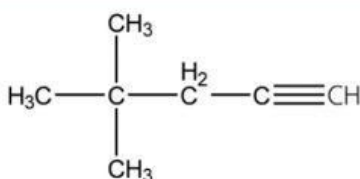
คำชี้แจง : ให้นักเรียนนำผ่านการเรียกชื่อของสารประกอบไฮโดรคาร์บอนวางใต้สูตรโครงสร้างให้ถูกต้อง และถ่ายรูปลง padlet ตามกลุ่มของนักเรียน



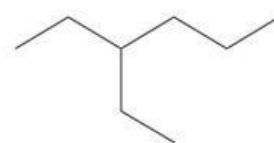


3,4-diethyl-6,7-dimethyldecane

3,4,6-triethyl-7-propyldec-2-



2,3,3-trimethylpentane

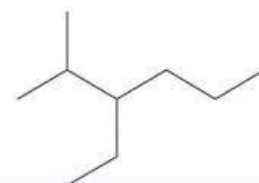
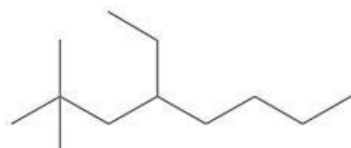


3-ethylhexane

4-ethyl-2,2-dimethyloctane

4-ethylhexane

3,6-dimethylcyclohex-1-yne



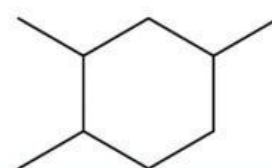
3-ethyl-2-methylhexane

cyclohept-1-ene

4,7-dimethylcyclooct-1-yne



1,2,4-trimethylcyclohexane



4,4-dimethylpent-1-yne

4-ethyl-5-methylhexane

3,3,4-trimethylpentane

