

FICHA INTERACTIVA MATEMÁTICA- 4°

Medimos el tiempo usando el reloj

¿Qué hora es?

Observa las manecillas y escribe la hora correcta




Medidas de Tiempo


1. Escribe la hora que marca el reloj.



_____ en punto




_____ en punto



_____ en punto


2. Dibuja la manecilla corta para que cada reloj marque la hora escrita.



2 en punto




7 en punto

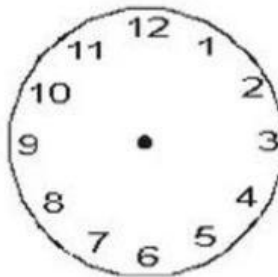


11 en punto

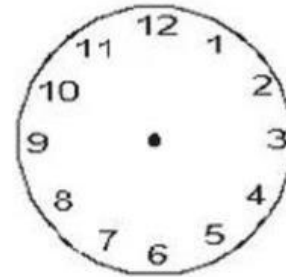
3. Dibuja las manecillas para que cada pareja de relojes marque la misma hora.



3 : 45



10 : 25



6 : 15