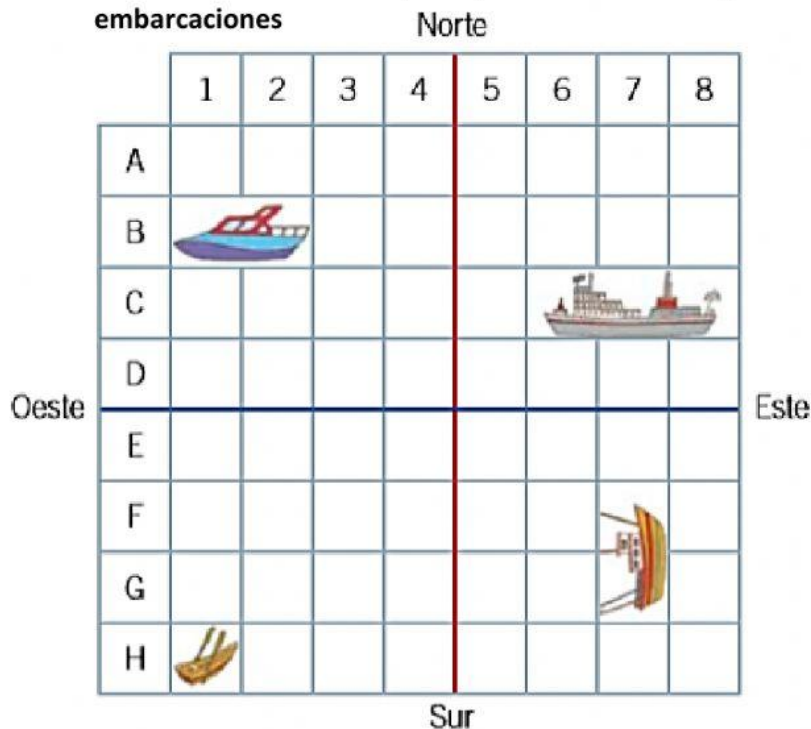








## Guía de repaso "Cuadrículas, líneas de referencia y sus coordenadas"

- I. Observa esta cuadrícula y completa la tabla con la posición de las embarcaciones



Arrastra las coordenadas y los puntos cardinales al lugar que le corresponda según la cuadrícula anterior.

Posición	Según letra y número	Según puntos cardinales
	B, 1 - B, 2	Norte - Oeste
		
		
		

H, 1

Norte – Este

C, 6 – C, 7 – C, 8










F, 7 – G, 7

Sur - Este

Sur – Oeste



I. Observa la cuadrícula y luego responde:

	A	B	C	D	E	F	G
1							
2							
3							
4							
5							
6							
7							
8							

- Encuentra los siguientes símbolos en la cuadrícula y registra sus coordenadas. Sigue el ejemplo:



(A, 1)



\_\_\_\_\_



\_\_\_\_\_



\_\_\_\_\_



\_\_\_\_\_



\_\_\_\_\_



\_\_\_\_\_



\_\_\_\_\_

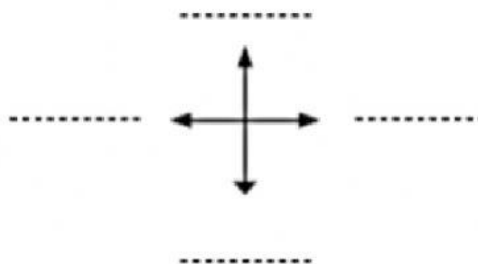


\_\_\_\_\_



II. Observa la tabla, luego completa la rosa de los vientos y la cuadrícula:

Elemento	Coordenadas
Casa	B, 3
Arcoíris	F, 5
Ojo	C, 2 – D, 2
Estrella	A, 2
Vaso	E, 3
Uva	C, 5
Polera	D, 6



	A	B	C	D	E	F
1						
2						
3						
4						
5						
6						