

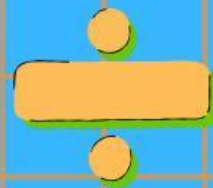
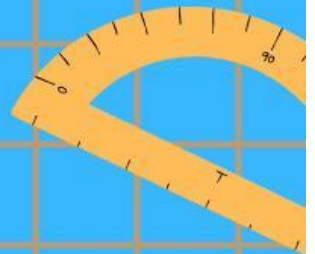



LKPD



Matematika

Tema: Bilangan Bulat



Nama: _____ Kelas: _____

Kelas VII SMP





Aktivitas 1

Beri tanda (x) pada jawaban yang menurutmu tepat.

Pilihan Ganda Kompleks

1. Bilangan yang terletak di sebelah kiri angka 0 pada garis bilangan adalah...
 - a. bilangan positif.
 - b. bilangan genap.
 - c. bilangan negatif.
 - d. bilangan cacah.
2. Hasil dari $(-8) + 5$ adalah ...
 - a. 3
 - b. -3
 - c. -13
 - d. 13
3. Hasil dari $-6 \times (-4)$ adalah...
 - a. 24
 - b. -24
 - c. 10
 - d. -10
4. Hasil dari $45 \div (-9)$ adalah...
 - a. 9
 - b. -9
 - c. 5
 - d. -5
5. FPB dari 12 dan 18 adalah...
 - a. 2
 - b. 3
 - c. 4
 - d. 6



Aktivitas 2

Jawab Pertanyaan berikut dengan jawaban yang tepat!

Pertanyaan:

1. Bilangan yang tidak termasuk bilangan bulat adalah...

Jawab: _____

2. Lawan dari bilangan -7 adalah...

Jawab: _____

3. KPK dari 4 dan 6 adalah...

Jawab: _____

4. Hasil dari $-3 + (-9)$?

Jawab: _____

5. Hasil dari $8 - (-4)$?

Jawab: _____

6. $-15 \div 3 = \dots$

Jawab: _____

7. $-6 \times 5 = \dots$

Jawab: _____

8. Bilangan yang berada di tengah antara -4 dan 4 adalah...

Jawab: _____

9. Faktor dari 16 adalah...

Jawab: _____

10. FPB dari 20 dan 30 adalah...

Jawab: _____



Aktivitas 3

Jawab Pertanyaan berikut dengan jawaban yang tepat!

Pertanyaan:

1. Jelaskan perbedaan antara bilangan bulat positif dan bilangan bulat negatif!

Jawab:

2. Tentukan hasil dari $(-12) + (-8) - (-5)$.

Jawab:

3. Suhu di kulkas mula-mula 0°C . Setelah 3 jam turun 2°C tiap jamnya. Berapa suhu akhirnya?

Jawab:

4. Tentukan FPB dan KPK dari 18 dan 24 menggunakan faktorisasi prima!

Jawab:

5. Seorang penyelam berada di kedalaman -40 meter. Ia naik 12 meter. Di kedalaman berapa ia sekarang?

Jawab:
