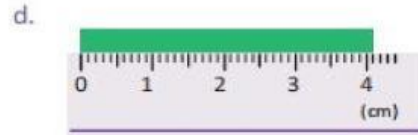
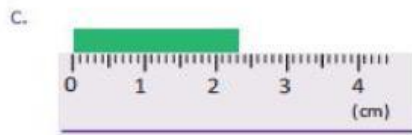
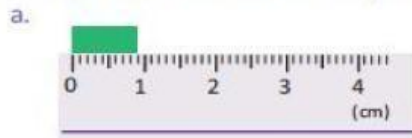


PRACTIQUEMOS EL USO DE LAS DECIMAS

1. Escribe las palabras que hacen falta en los recuadros:

- a. Al dividir una unidad (1) en 10 partes iguales, cada una de las partes se llama .
- b. En un número decimal, el punto que separa la unidad y la décima se llama .

2. Determina la medida de las siguientes cintas y escribe cómo se lee cada cantidad:



3. Escribe el número que se forma:

- a. 20 veces 0.1 es .
- b. 10 veces 0.1 es .
- c. 4 veces 0.1 es .
- d. 26 veces 0.1 es .
- e. 123 veces 0.1 es .
- f. 32 veces 0.1 es .

4. Escribe el número dada su lectura:

- a. tres unidades dos décimas
- b. una unidad nueve décimas
- c. siete décimas
- d. ocho décimas

5. Determina cuántas décimas hay en cada número y escribe cómo se lee.

- a. 3.6
- b. 4.1
- c. 0.9
- d. 1.7

6. Escribe el número que corresponde a cada letra en la recta numérica:

