

LKPD


Rantai Makanan



Nama: _____

Kelas: _____

Hubungkan susunan rantai makanan,
dengan tingkatan trofik yang tepat.



Konsumen 1



Dekomposer



Produsen



Konsumen 2




Konsumen Puncak

Nama :

Nomor :

RANTAI MAKANAN

Amatilah rantai makanan di bawah ini dengan cermat!



Berilah tanda centang pada kolom benar atau salah berdasarkan pernyataan di bawah ini!

No	Pernyataan	Benar	Salah
1	Rantai makanan tersebut terdapat di ekosistem laut.		
2	Ganggang berperan sebagai produsen.		
3	Produsen dapat menghasilkan makanan sendiri.		
4	Bangau berperan sebagai konsumen tingkat II.		
5	Jika populasi buaya menurun, maka populasi bangau meningkat.		
6	Populasi ikan meningkat, jika populasi bangau meningkat.		
7	Buaya merupakan hewan herbivora.		

Nama:

Kelas:

RANTAI MAKANAN

Amatilah gambar rantai makanan berikut dan letakkanlah kotak pada posisi yang tepat!

Produsen

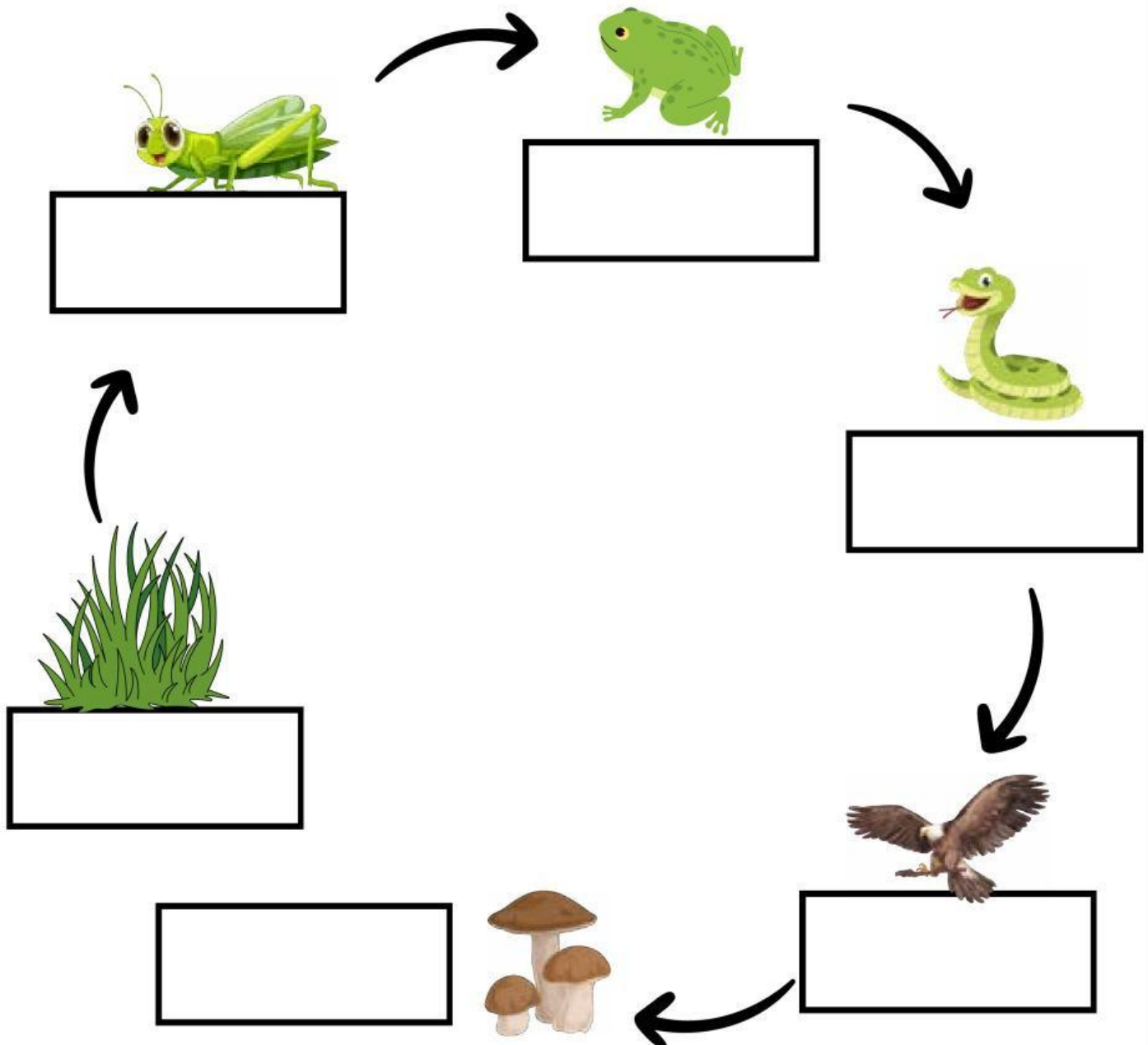
Konsumen Primer

Konsumen Sekunder

Konsumen Tersier

Konsumen Final

Dekomposer

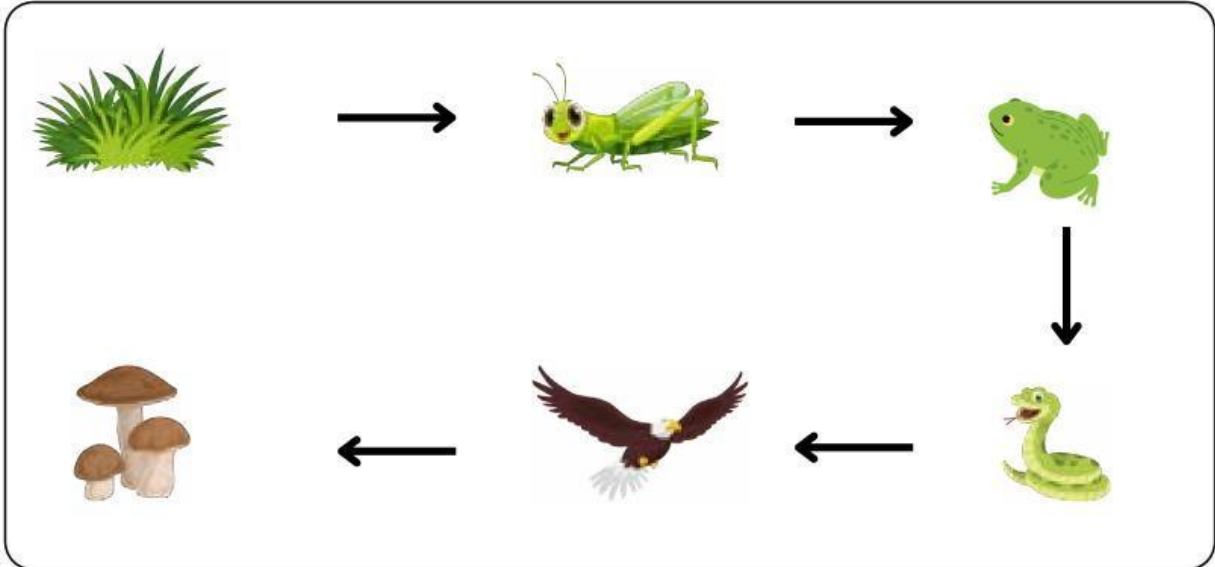


Nama:

Kelas:

RANTAI MAKANAN

Amatilah gambar rantai makanan berikut dan jawablah pertanyaan di bawah ini!



1. Jelaskan pengertian dari rantai makanan!

2. Apa yang dimaksud dengan produsen?

3. Berdasarkan gambar di atas, manakah yang berperan sebagai produsen?

4. Burung elang pada gambar rantai makanan di atas berfungsi sebagai ...

5. Apa yang dimaksud dengan pengurai? Pada gambar rantai makanan di atas manakah yang berfungsi sebagai pengurai?