

FICHA INTERACTIVA MATEMÁTICA– 2°

Resolvemos problemas juntando

1. Lee el siguiente problema.

El señor Draco vende en la feria regalos para eventos especiales.



	Peluches 	Ramo de rosas 
Día lunes	21	19
Día martes	15	17

¿Cuántos regalos vendió Draco el día martes?

2. Comprende el problema.

a) ¿De quién nos habla el problema?



b) ¿Qué vende en la feria el señor Draco?

c) ¿Cuántos peluches vendió Draco el martes? Pinta



15

21

19

d) ¿Cuántos ramos de rosas vendió Draco el martes? Pinta



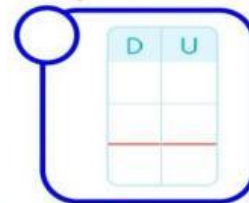
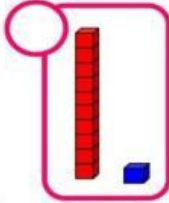
19

15

17

e) ¿Qué te pide averiguar el problema? Encierra tu respuesta.

f) ¿Qué material te ayudará a resolver el problema?



g) ¿Qué acción vas a realizar para resolver el problema?

Juntar

Separar

3. Aplica tu estrategia y resuelve el problema de formas distintas.

Resuelve con material base diez.





Resuelve usando TVP

D	U



4. Damos respuesta al problema: ¿Cuántos regalos vendió Draco el día martes?

Seguimos aprendiendo

1. Observa la tabla y responde. **¿Cuántos peluches vendió en total el señor Draco?**

	Peluches	Ramos de rosas
Día lunes	21	19
Día martes	15	17

¿Qué acción realizarás para saber el total?

Juntar

Separar

-Resuelve de distintas formas:

Resuelve con material base diez.

Peluches que vendió el lunes.

Peluches que vendió el martes.



Resuelve usando TVP

D	U

Respuesta:

¿Cuántos peluches vendió en total el señor Draco?

2. Lee la tabla y responde. **¿Cuántos libros de matemática tiene en total el salón del 2° "C"?**

Libros del salón 2° "C"		
	Libros de matemática 	Libros de comunicación 
Nuevos	16	24
Usados	15	18

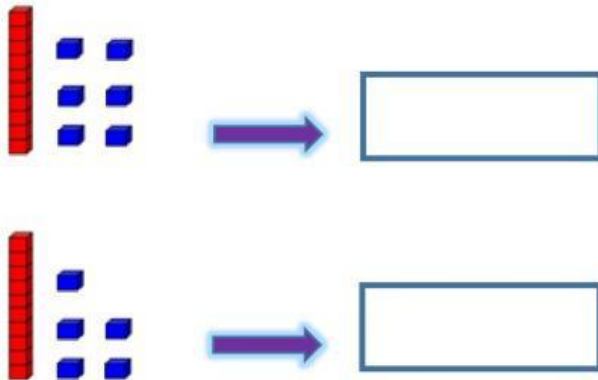
¿Qué acción realizarás para saber el total?

Juntar

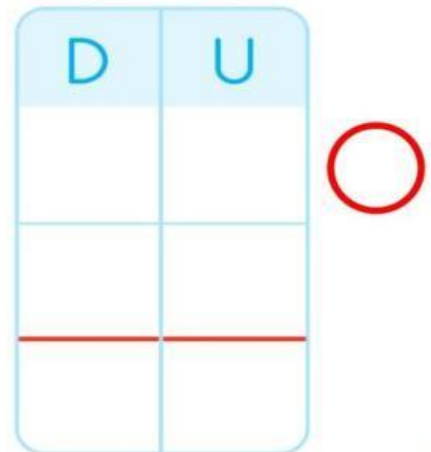
Separar

-Resuelve de distintas formas:

Resuelve con material base diez.



Resuelve usando TVP



Respuesta:

¿Cuántos libros de matemática tiene en total el salón del 2° "C"?

3. ¿Cuántos libros nuevos tiene en total el salón del 2° "C"?

Libros del salón 2° "C"		
	Libros de matemática	Libros de comunicación
Nuevos	16	24
Usados	15	18

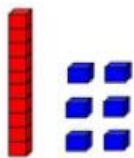
¿Qué acción realizarás para saber el total?

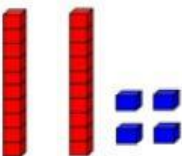
Juntar

Separar

-Resuelve de distintas formas:

Resuelve con material base diez.





Resuelve usando TVP

D	U



Respuesta:

¿Cuántos libros nuevos tiene en total el salón del 2° "C"?