

LKPD

Ilmu Pengetahuan Sosial

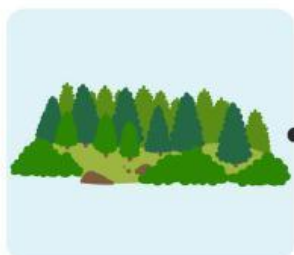
Tema: Kenampakan Alam dan Buatan

Nama: _____ Kelas: _____



Kenampakan Alam

Hubungkan gambar dengan namanya yang sesuai.



• Laut

• Hutan

• Lembah

• Gunung

• Sungai

Kenampakan Buatan

Perhatikan gambar, tuliskan tujuan dari pembangunan kenampakan buatan di bawah ini.



- Jembatan



- Perumahan



- Bendungan



- Jalan Raya

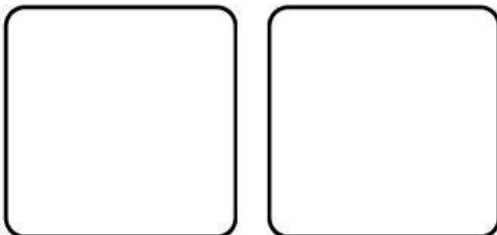
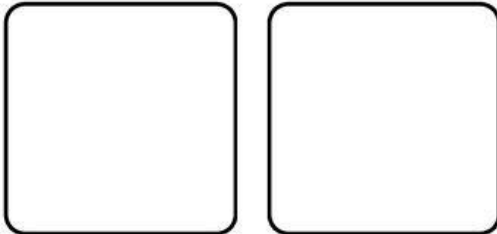


- Sawah

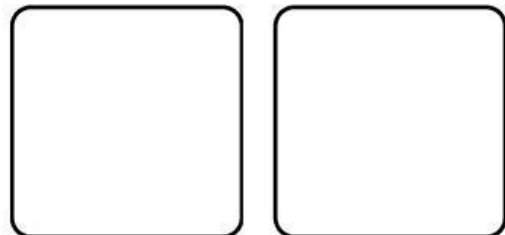
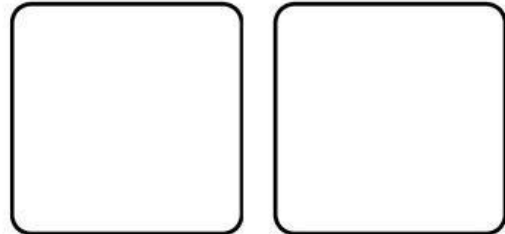
Mengenal Kenampakan Alam

Tariklah gambar kenampakan alam di bawah kemudian tempelkan pada tabel yang sesuai dengan kelompok jenisnya!

Kenampakan alam
di daratan



Kenampakan alam
di perairan



KENAMPAKAN ALAM

Berilah tanda centang pada gambar kenampakan alam dan tanda silang pada gambar bukan kenampakan alam!

