

Disusun oleh: Hanifah Az-Zahra Alfiani

# LKPD

Ilmu Pengetahuan Alam dan Sosial

**Keanekaragaman Hayati**



Nama:

Kelas:

Nama: \_\_\_\_\_

Kelas: \_\_\_\_\_

# Flora dan Fauna di Indonesia



Selesaikanlah persoalan-persoalan di bawah ini dengan tepat!

1 Tuliskan tiga contoh flora di Indonesia sesuai dengan persebarannya!

Zona Barat (Asiatis)

a. \_\_\_\_\_

b. \_\_\_\_\_

c. \_\_\_\_\_

Zona Tengah (Peralihan)

a. \_\_\_\_\_

b. \_\_\_\_\_

c. \_\_\_\_\_

Zona Timur (Australis)

a. \_\_\_\_\_

b. \_\_\_\_\_

c. \_\_\_\_\_

2 Kelompokkan fauna-fauna Indonesia berikut ini sesuai dengan persebarannya!



Orang Utan



Walabi



Kasuari



Anoa



Elang Jawa



Cendrawasih



Komodo



Babirusa



Harimau Sumatera

Zona Barat (Asiatis)

a. \_\_\_\_\_

b. \_\_\_\_\_

c. \_\_\_\_\_

Zona Tengah (Peralihan)

a. \_\_\_\_\_

b. \_\_\_\_\_

c. \_\_\_\_\_

Zona Timur (Australis)

a. \_\_\_\_\_

b. \_\_\_\_\_

c. \_\_\_\_\_

# Ini Ciri Khas Daerahku

## Keanekaragaman Hayati






Nama :



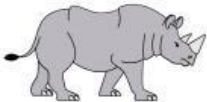
Kelas :

Lengkapilah titik-titik pada kedua tabel di bawah ini!

- Tabel Flora Khas Indonesia

Gambar	Nama	Daerah Asal
		Hutan Sumatra
		Jawa, Kalimantan
		NTT

- Tabel Fauna Khas Indonesia

Gambar	Nama	Daerah Asal
		NTT
		Kalimantan
		Jawa

# Keanekaragaman Hayati

Isilah teka-teki silang keanekaragaman hayati di bawah ini dengan benar!



Nama:

Kelas:

## Mendatar

- 2 Hewan penghasil benang sutra
- 4 Melahirkan dan merawat anak hewan
- 5 Salah satu pohon Australis
- 7 Satwa endemik kawasan peralihan

## Menurun

- 1 Pesebaran wilayah Indonesia Timur
- 3 Pesebaran wilayah Indonesia Barat
- 6 Tumbuhan sebagai bahan pangan
- 7 Hewan berkantung

# Flora dan Fauna di Indonesia

Tariklah garis antara gambar dan tempatnya sehingga menjadi pasangan yang tepat!



Papua



Nusa Tenggara Timur



Sumatera



Kalimantan



Sulawesi