



LKPD

Lembar Kerja Peserta Didik

Bumi, Bulan dan Matahari

Jelaskan secara singkat tentang Bumi, Bulan dan Matahari!



Sebutkan 3 peran Bumi bagi kehidupan!

1

2

3



Sebutkan 3 peran Bulan bagi kehidupan!

1

2

3



Sebutkan 3 peran Matahari bagi kehidupan!

1

2

3

Jelaskan hubungan Bumi, Matahari dan Bulan!

Nilai

Paraf guru

Menjelajahi Bumi dan Antariksa

Menjelajahi Matahari

1



Gerakan Bumi berputar pada porosnya disebut?

2

Satu kali revolusi Bumi terhadap Matahari berlangsung selama _____ hari.

3

Matahari tersusun dari gas _____ dan _____.

4

Gaya yang membuat planet-planet tetap beredar mengelilingi Matahari disebut gaya _____.

5

Cahaya Bulan yang terlihat di malam hari sebenarnya merupakan _____ dari cahaya Matahari.

6

Matahari memberikan cahaya dan apa lagi bagi Bumi?

ROTASI DAN REVOLUSI BUMI & BULAN

Tuliskan apa yang kamu ketahui tentang rotasi dan revolusi!


Rotasi Bumi

Apa yang kamu ketahui tentang rotasi bumi?



Revolusi Bumi

Apa yang kamu ketahui tentang revolusi bumi?



Rotasi Bulan

Apa yang kamu ketahui tentang rotasi bulan?



Revolusi Bulan

Apa yang kamu ketahui tentang revolusi bulan?



Rotasi & Revolusi

Gunting pernyataan di bawah ini dan tempelkan pada kolom yang tepat!

Nama: _____ Kelas: _____

Rotasi Bumi

Revolusi Bumi



Perbedaan Zona Waktu

Gerak Semu Matahari

Perubahan Musim

Terjadinya Siang dan Malam

Bayangan Matahari Berubah

Penentuan Kalender

Munculnya Gerhana Matahari

Perubahan Rasi Bintang

Mengenal Benda Langit

Cermati gambar, lalu isi kolom dengan nama benda langit yang sesuai.






Nama: _____ Kelas: _____

CIRI BENDA LANGIT DI TATA SURYA

Hubungkan benda langit dengan ciri-cirinya!



- Planet paling dekat dengan Matahari
- Permukaannya berbatu dan penuh kawah



- Terbakar saat masuk atmosfer
- Disebut bintang jatuh



- Terkenal karena cincin-cincinnya yang indah
- Planet terbesar kedua



- Pusat Tata Surya
- Menghasilkan cahaya dan panas sendiri



- Benda langit berbatu
- Banyak berada di sabuk asteroid



- Mengelilingi planet
- Contohnya Bulan mengelilingi Bumi



NAMA DAN URUTAN PLANET

Tuliskan nama planet sesuai dengan urutannya dengan benar.


1




2



3



4



5



6



7



8

