



LKPD

Lembar Kerja Peserta Didik

Cara berhitung hitungan



Disusun Oleh:
ABDUL KHAFIDH

SOAL PILIHAN GANDA

NILAI:

01

Hasil dari pertambahan $10+5$: berapa....

A. 13

C. 20

B. 11

D. 15

02

Hasil dari perkalian $3 \times 3 =$ berapa...

A. 9

C. 10

B. 8

D. 11

03

Budi punya 6 apel, dimakan 2 apel.
Berapa sisa apel Budi?

A. 3

C. 5

B. 4

D. 6

04

Ani punya 3 permen, lalu diberi 2 permen
lagi.

Berapa jumlah permen Ani sekarang?

A. 5

C. 2

B. 4

D. 6

05

Di kelas ada 4 buku, lalu ditambah 3
buku lagi.

Jadi ada berapa buku?

A. 7

C. 6

B. 8

D. 5



PERKALIAN DASAR

Lingkari hasil perkalian yang tepat.

$2 \times 6 =$

12

3

6

$7 \times 3 =$

21

14

11

$5 \times 5 =$

20

25

15

$4 \times 6 =$

24

12

18

$7 \times 6 =$

56

32

42

$6 \times 3 =$

18

12

15

$8 \times 2 =$

18

12

16


$5 \times 3 =$

15

20

10


Hitung setiap hewan dalam kotak,
kemudian beri tanda centang (✓) jumlah yang benar!



2

5


7



4

3


5



5

2

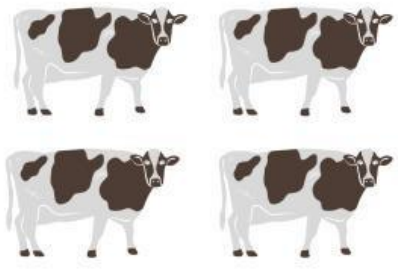
3



7

9


5



5

4


2



3

2

1



2

2

2



5

6

7

Thank You

For Coming

@reallygreatsite