



# LKPD

## BANGUN DATAR

Perhatikan Video berikut ini



Perhatikan materi presentasi berikut ini





# LKPD<sup>2</sup>

## BANGUN DATAR

1.

### TEKSFIELD

Bangun datar segi empat yang keempat sisinya sama Panjang dan keempat sudutnya siku-siku atau 90 adalah....

2.

### SINGLE CHOISE

Berikut ini yang bukan merupakan bangun datar Adalah.....

3.

### CHECKBOXES

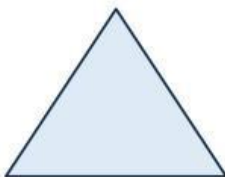
Pertanyaan yang benar Adalah.....

Persegi memilih 4 sisi  lingkaran memiliki 6 sisi  Segitiga memiliki 3 sisi

4.

### SELECT

Nama bangun datar dibawah ini Adalah....



Persegi

Segitiga

Persegi Panjang

Lingkaran



# LKPD<sup>3</sup>

## BANGUN DATAR

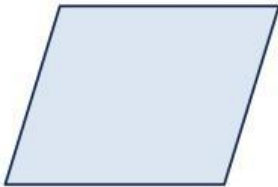
### 5. WORD SEARCH

Temukan 3 kata pada bentuk dibawah ini

S	S	I	S	I
M	U	L	I	N
O	S	D	K	T
O	K	C	U	K
U	G	K	M	T

### 6. SPEAK

Sebutkan nama bangun datar berikut dengan benar!



### 7. LISTENING

Dengarkan suara berikut dan Tuliskan jawaban dengan tepat!





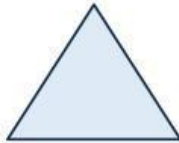

# LKPD<sup>4</sup>

## BANGUN DATAR

8

### DRAG & DROP

Tentukan rumus yang sesuai dengan gambar



$$l = \frac{1}{2} \times \text{alas} \times \text{tinggi}$$

$$L = \text{panjang} \times \text{lebar}$$

$$L = \pi \times r \times r$$



# LKPD<sup>5</sup>

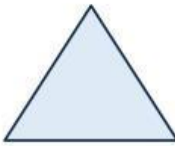
## BANGUN DATAR

### 9. JOIN

Buatlah garis jawaban yang benar



Persegi Panjang



Lingkaran



Segitiga



# LKPD<sup>6</sup>

## BANGUN DATAR