




EVALUACIÓN DE GEOMETRÍA

TEMA: PUNTO, LÍNEA, RECTA

1. ESCRIBE DEBAJO DE CADA FIGURA SU RESPECTIVO NOMBRE



2. LA SIGUIENTE IMAGEN REPRESENTA UN SEGMENTO PORQUE

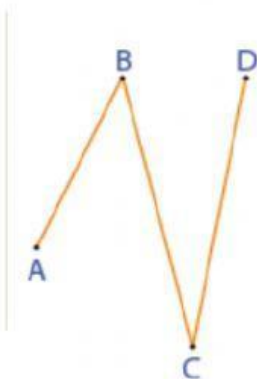
- A. NO TIENE DIMENSIÓN
- B. ESTA DELIMITADA POR LOS DOS EXTREMOS
- C. ESTA DELIMITADA SOLO POR UN EXTREMO
- D. SE TRAZO UN PUNTO EN UNA RECTA



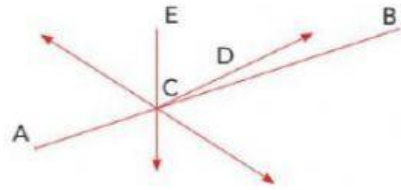
3. LA SIGUIENTE REPRESENTACIÓN \overleftrightarrow{AC} HACE REFERENCIA A:

- A. UN PUNTO
- B. RECTA
- C. SEGMENTO
- D. SEMIRRECTA

4. ¿CUÁNTOS SEGMENTOS TIENE LA SIGUIENTE FIGURA?



5. Daniela y sus amigos dibujaron líneas en una cuadrícula. Juan dibujó la recta que pasa por el punto C; Luz, la semirrecta que pasa por D; Luis, el segmento que tiene extremos en A y B, y Daniela dibujó la otra línea. ¿Cómo describirías la línea que dibujó Daniela?



- A. SEMIRRECTA
- B. SEGMENTO
- C. RECTA
- D. LÍNEA