

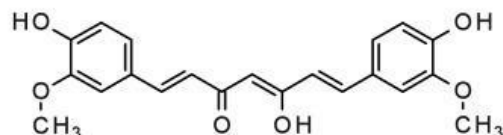
Họ và tên:

Lớp:

BÀI TẬP HÓA HỮU CƠ

1. Em hãy cho biết hợp chất này tên gì ?

(Điền vào chỗ trống)

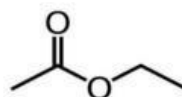


2. Nhóm chức -CHO là của hợp chất nào sau đây?

(Chọn vào ô trống để chọn đáp án đúng)

A. Carboxylic acid B. Aldehyde C. Alcohol D. Ketone

3. Nghe và chọn tên hợp chất hữu cơ



4. Nối đáp án đúng

Phổ hồng ngoại của Alcohol

Hấp thụ vùng 3500-3200 cm^{-1}

Phổ hồng ngoại của Carboxylic acid

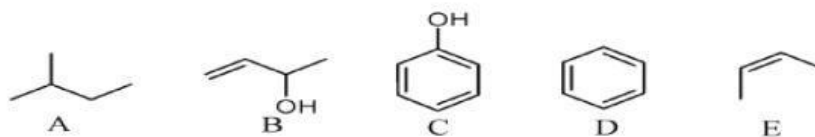
Hấp thụ vùng 3300-2500 cm^{-1}

5. Tìm từ khóa về hợp chất hữu cơ

a	g	i	t	y	o	p
g	r	l	o	w	e	r
l	q	e	u	e	s	b
d	r	h	n	c	j	c
v	a	l	k	e	n	e

6. Hợp chất nào có dẫn xuất và không dẫn xuất hydrocarbon ?

(Chọn hợp chất kéo và thả vào ô trống)



Dẫn xuất hydrocarbon	Không dẫn xuất hydrocarbon